

T.C.

MİLLÎ EĞİTİM BAKANLIĞI
ÖLÇME, DEĞERLENDİRME VE SINAV
HİZMETLERİ GENEL MÜDÜRLÜĞÜ
İLKÖĞRETİM VE ORTAÖĞRETİM
KURUMLARI BURLULUK SINAVI
04 EYLÜL 2022 Saat: 10.00

8. SINIF
VE HAZIRLIK
SINIFI

A

KİTAPÇIK TÜRÜ

Adı ve Soyadı :


DERS ADI	SORU SAYISI	TOPLAM SORU SAYISI	SINAV SÜRESİ (DAKİKA)
TÜRKÇE	25	100	120
MATEMATİK	25		
FEN BİLİMLERİ	25		
SOSYAL BİLİMLER	25		

ADAYLARIN DİKKATİNE!

1. Sınav başladıktan sonra ilk **30** dakika dolmadan ve sınav bitimine **15** dakika kala dışarı çıkmayınız.
2. Sınav sırasında çanta, cep telefonu, saat, kablosuz iletişim sağlayan cihazlar ve kulaklık, kolye, küpe, bilezik, yüzük, broş ve benzeri eşyalar ile her türlü elektronik ve/veya mekanik cihazları yanınızda bulundurmuyunuz. Bu araçları yanınızda bulundurmanız ve kopya çekmeye teşebbüs etmeniz hâlinde sınavınız geçersiz sayılacaktır.
3. Soruları ve sorulara verdiğiniz cevapları, yanınızda götürmek amacıyla kaydetmeyiniz; hiçbir şekilde dışarı çıkarmayınız.
4. Cevap kâğıdınızı, sınav süresince hiçbir öğrencinin göremeyeceği şekilde önünüzde bulundurunuz.
5. Sınavın değerlendirilmesi aşamasında, bilgisayar ortamında yapılan kopya analizinde, herhangi bir testten ikili veya toplu kopya tespiti hâlinde ilgili testiniz geçersiz sayılacaktır.

CEVAP KÂĞIDI VE SORU KİTAPÇIĞI İLE İLGİLİ AÇIKLAMALAR

1. Cevap kâğıdınızdaki bilgilerin doğruluğunu kontrol ediniz ve cevap kâğıdınızı siyah kurşun kalemle imzalayınız.
2. Cevap kâğıdındaki bilgiler size ait değilse veya cevap kâğıdı kullanılmayacak durumdaysa salon görevlilerinin temin edeceği yedek cevap kâğıdına kimliğinizle ilgili bilgileri açıklamalar doğrultusunda yazınız ve kodlayınız.
3. Cevap kâğıdı üzerindeki kodlamaları kurşun kalemle yapınız.
4. Değiştirmek istediğiniz bir cevabı, yumuşak silgiyle cevap kâğıdını örselemeden temizce siliniz ve yeni cevabınızı kodlayınız.
5. Kitapçık türünü cevap kâğıdınızdaki ilgili alana kodlayınız. Bu kodlamayı yapmadığınız veya yanlış yaptığınız takdirde sınavınızın değerlendirilmesi doğru yapılamayacaktır.
6. Cevap kâğıdında **Türkçe, Matematik, Fen Bilimleri ve Sosyal Bilimler** testleri için dört ayrı sütun bulunmaktadır. Cevaplarınızı, cevap kâğıdındaki ilgili sütunlara yuvarlağın dışına taşmadan kodlayınız.
7. **Soru kitapçığı üzerinde yapılabilecek cevap kâğıdına işaretlenmeyen cevaplar değerlendirmeye alınmayacaktır.**
8. Soru kitapçığının sayfalarını kontrol ediniz, baskı hatası var ise değiştirilmesini sağlayınız.
9. Soruların çözümü için size ayrıca boş kâğıt verilmeyecektir. Soru kitapçığının içindeki boş alanları çözümleriniz için kullanabilirsiniz.
10. Cevaplamaya istediğiniz testin sorusundan başlayabilirsiniz. Cevabını bilmediğiniz sorular üzerinde fazla zaman kaybetmeden diğer sorulara geçiniz. Zamanınız kalırsa bu sorulara daha sonra dönebilirsiniz.
11. Puanlama; her test için yanlış cevap sayısının **üçte biri, doğru cevap sayısından çıkarılarak** elde edilecek geçerli cevaplar üzerinden yapılacağı için cevap kâğıdı üzerinde rastgele cevaplama yapmayınız.
12. Sınav bitiminde, **soru kitapçığı ve cevap kâğıdını salon görevlilerine teslim ediniz.**



SINAV BAŞLAMADAN ÖNCE KİTAPÇIĞIN ARKA KAPAĞINDAKİ UYARILARI MUTLAKA OKUYUNUZ.

1. Dünyaca tanınan bir yazar olmam benim için çok önemli değil. Birçok genç yazarın kafasında ise bu düşünce var. Bilmeleri gereken şey herkesçe tanınmış bir yazar olmanın yolu ilk önce kendine has olmaktan geçer.

Bu metne göre, tanınmış bir yazar olmanın ön koşulu aşağıdakilerden hangisidir?

- A) Tutarlılık
B) Sadelik
C) Doğallık
D) Özgünlük

2. Anadolu'da insanlar sustuğunda kilimlerdeki motifler ve nakış nakış işlenmiş renkler konuşur.

Altı çizili sözcüğün yerine aşağıdaki deyimlerden hangisi getirilirse cümlelerin anlamı değişmez?

- A) dilinden düşürmez
B) dillerde dolaşır
C) dile gelir
D) dil döker

3. Yeşilirmak Nehri'nin kıyısındaki köylerden biri olan Ilica, Amasya'nın Taşova ilçesine bağlı, 36 haneli bir köydür.

Aşağıdaki yargılardan hangisi bu cümleden kesin olarak çıkarılır?

- A) Ilica, Taşova ilçesinin en küçük köyüdür.
B) Yeşilirmak Nehri, Taşova ilçesinden geçmektedir.
C) Amasya nüfusunun çoğunluğu köylerde yaşamaktadır.
D) Yeşilirmak Nehri'nin kıyısındaki köyler Taşova ilçesine bağlıdır.

4. Sabahtan beri keyifle sohbet ediyorduk, gelen haberle dut yemiş bülbüle döndük.

Bu cümledeki altı çizili deyim anlamı aşağıdakilerden hangisidir?

- A) Bir şeyle ilgili düşüncesini saklamak
B) Beklenmedik bir durum karşısında şaşırarak
C) Neşe ve konuşkanlığını yitirmek, susmak
D) İlgisi azalmak, dikkati dağılmak

5. Anıların, zihindeki oluşum süreci karmaşıktır. Önceden, tıpkı bir evrak dolabında belgelerin saklanması gibi anıların da beynin belirli bölümlerinde saklandığı düşünülüyordu. - - - - yapılan çalışmalar durumun düşünüldüğü gibi olmadığını ortaya çıkardı.

Bu metinde boş bırakılan yere düşüncenin akışına göre aşağıdaki sözcüklerden hangisi getirilmelidir?

- A) Hâlbuki
B) Çünkü
C) Hatta
D) Böylece

6. Kara sürünün ortasında, Kalabalık yurdun arasında Dokuz yaşında kara bir boğa Doksan kulaç boynuzu Mavi göğe kadar uzanıyordu.

Bu dizelerde aşağıdaki söz sanatlarından hangisi vardır?

- A) Benzetme
B) Abartma
C) Kişileştirme
D) Konuşturma

7. Gökyüzü, havadaki bütün tozlardan kurtularak billurlaşmıştı. Bulutların arasından gökyüzünü ışık dalgalarıyla süsleyen güneşin, yüzleri okşadığı günlerden biriydi. Pencereden odama süzülen altın rengi ışıklar, odamdaki ağır kasveti dağıtmıştı. İçim birdenbire yaşama sevinciyle kıpır kıpır oldu.

Bu metinde ağır basan anlatım biçimi aşağıdakilerden hangisidir?

- A) Açıklama
B) Betimleme
C) Öyküleme
D) Tartışma

8. Tarlanın sınırını nihayet çizebilmişti Ahmet Efendi. Toprakta söktüğü bodur yeşilliklerle sınıra taze bir çit görüntüsü vermişti. Tepeyi adım adım saran koca taşları da birer birer söküp tarlanın sınırına yığılmıştı.

Bu metinde aşağıdaki hikâye unsurlarından hangisi yoktur?

- A) Zaman
B) Mekân
C) Olay
D) Şahıs

9. (1) Bosna Hersek'in en ünlü kenti Mostar'da bulunan Mostar Köprüsü, ülkedeki pek çok Osmanlı eserinden sadece biri. (2) Çok eski zamanlarda ahşaptan yapılmış olan köprü, daha dayanıklı olsun diye 1566 yılında taş köprü olarak yeniden inşa edilmiş. (3) Dört yüz otuz yıl kullanılan taş köprü zarar gördüğünden çoğunlukla kendi taşları tekrar kullanılarak onarılmış. (4) Tarihe yüzyıllarca tanıklık eden bu yapı, Neretva Nehri'ni tüm görkemiyle bir gerdanlık gibi süslemektedir.

Bu metindeki numaralanmış cümlelerle ilgili aşağıdakilerden hangisi söylenemez?

- A) 1. cümlede karşılaştırmaya yer verilmiştir.
B) 2. cümlede amaç-sonuç ilişkisi vardır.
C) 3. cümlede koşul-sonuç ilişkisi vardır.
D) 4. cümlede benzetmeye yer verilmiştir.

10. (1) İstasyondan çıktuktan iki saat sonra trenimiz Sivas'a vardı. (2) Trenden inince ilk olarak valizlerimizi yere bırakıp ceketlerimizi giydik. (3) Sonra birer bardak çay içmek için istasyon binasına girdik. (4) İstasyonun içindeki koşuşturmaya binanın dışında kalan derin ve buz kesen sessizlikle büyük bir çelişki hâlindeydi.

Bu metindeki numaralanmış cümlelerin hangisinde öznel bir ifade vardır?

- A) 1
B) 2
C) 3
D) 4

11. Kaliteli bir özçekim yapmanın pek çok inceliği vardır. Öncelikle fotoğrafı doğru ışıkta çekmek gerekir. Işık karşıya alınırsa daha ayrıntılı ve renklerin daha belirgin olduğu bir görüntü elde edilir. Işığın çok az olduğu gece çekimlerinde, çekim birkaç saniye sürdüğü için o sırada hareketsiz kalınmalıdır. Ayrıca fotoğrafta yer alması istenenler, açı doğru ayarlandığında fotoğraf karesine sığdırılabilir. Telefon, buna göre yatay veya dikey tutulabilir.

Bu metinde özçekimle ilgili aşağıdakilerin hangisine değinilmemiştir?

- A) Bazı kurallarının olduğuna
B) Gece çekimlerinde ışık kaynağına ihtiyaç duyulduğuna
C) Çekimin yapıldığı açığa dikkat edilmesi gerektiğine
D) Işığın konumunun, fotoğrafın görüntüsünü etkilediğine

12. Kitap okumak, kendimizi yetiştirmede ciddi bir role sahiptir. Öyleyse ne tür kitaplar okumalıyız? Elbette her türden kitabı harmanlayarak okumamız gerekir. Sadece bir türe odaklanarak okumak bilgi yolundaki ışığın sönük kalmasına neden olur.

Bu metnin ana düşüncesi aşağıdakilerden hangisidir?

- A) İnsanı ancak farklı türde kitaplar okumak geliştirir.
- B) Okuduğu kitap türü insanın kişiliğini yansıtır.
- C) İnsan, uzmanlaşmak istediği alanla ilgili kitapları okumalıdır.
- D) Kitaplar en önemli bilgi kaynağıdır.

13. Aslında her konuda şiir yazarım. Elbette şiirlerime o an hissettiklerim yön verir. Mesela, biraz karamsar olduğumda kalemimden yalnızlık, ümitsizlik temalı şiirler çıkar. Saatim geceyi gösteriyorsa, hele de yalnızsam dize lerime karamsarlık yön verir. Öğretici, eleştirel şiirler yazmayı da severim fakat yazarken en keyif aldığım tür aşk şiiridir. Okurlarım da en çok aşk şiiri yazmamı istiyor. Ben de yazarken ister istemez onlara ağırlık veriyorum.

Bu metinde aşağıdaki sorulardan hangisinin cevabı yoktur?

- A) Ne tür şiirler yazmaktan zevk alırsınız?
- B) Şiirlerinizde ruh hâlinizin etkisi var mıdır?
- C) Konu seçerken okurlarınızın beklentilerini dikkate alır mısınız?
- D) Şiirlerinizi en çok günün hangi vakitlerinde yazarsınız?

14. Günlerden bir gün Ay Han'ın bir çocuğu oldu. Çocuk, kırk günden sonra büyüdü; yürüdü, oynadı, ata bindi. Günlerden, gecelerden sonra tam bir yiğit oldu. Oğuz Han denen bu bahadırın bir gün birdenbire çevresi kapkaranlık kesildi. Gökten bir ışık düştü. Bu ışık, aydan ve güneşten bile parlaktı.

Bu parça aşağıdaki metin türlerinin hangisine örnektir?

- A) Makale
- B) Deneme
- C) Destan
- D) Anı

15. Ana dilini kendi vatanında konuşanlar, dillerinin kıymetini pek bilmezler. Onlar için dil demek günlük ihtiyaçları ifade etmekte yeterli olan cümleler topluluğu demektir. Ana dilinden ayrı kalan, gurbette yaşayan, Türkçe bir söze hasret kalan içinse kendi dilinde konuşmak âdeta çölde susuz kalıp suya kavuşmaktır.

Bu metnin anlatımıyla ilgili aşağıdakilerden hangisi söylenemez?

- A) Karşılaştırmaya başvurulmuştur.
- B) Kişisel görüşe yer verilmiştir.
- C) Benzetmeden yararlanılmıştır.
- D) Olaya dayalı bir anlatım yapılmıştır.

16. 1. Doğru işlemeyen akıl, etkili olmuş neye yarar; saatin iyiliği koşmasında değil, doğru gitmesindedir.
2. İnsan, aklın sınırlarını zorlamadıkça hiç bir şeye ulaşamaz.
3. Bir insanın akli, bilgisine göre değil; bilgi edinme yeteneğine göre ölçülür.
4. Önemli olan akıllı olmak değil, akli yerinde ve zamanında kullanmaktır.

Numaralanmış cümlelerden hangileri anlamca birbirine en yakındır?

- A) 1 ve 2
B) 1 ve 4
C) 2 ve 3
D) 3 ve 4

17. Müzik dinlemenin sorun çözme, mantıksal düşünme ve öğrenme üzerine etkilerini belirlemeye yönelik birçok araştırma var. Müzik dinlemek öğrenme sürecindeki davranışları, duygusal durumları etkiler. Ayrıca insanların stres ve kaygı düzeyini azalttığı için öğrenenlerin kalıcı olmasını sağlar. Dinlenen müzik türünün de öğrenme üzerinde farklı etkileri olduğu söylenebilir.

Bu metnin konusu aşağıdakilerden hangisidir?

- A) Müzik dinlemenin öğrenme sürecine etkisi
B) Farklı müzik türlerinin kaygı düzeyine etkisi
C) Müzik dinlemenin sorun çözmeye faydaları
D) Müzik dinlemenin dikkat üzerindeki rolü

18. Günümüzün anne babaları çocuklarını yetiştirirken farklı yollar izliyor. Kimisi çağdaş bireyler yetiştirmek için sadece modern yöntemleri kimisi de kültürünü korumak için sadece geleneksel yöntemleri benimsiyor. Devir değişti diyerek geleneksel yöntemleri rafa kaldırmak da kültürümüzü kaybetmeyelim diyerek modern yöntemleri reddetmek de doğru değildir. Bu sorunun çözümü - - - - .

Bu metin düşüncenin akışına göre aşağıdakilerden hangisiyle tamamlanmalıdır?

- A) çevremizdeki ailelerin izlediği yöntemleri benimsemektir
B) çocuklarımızı yetiştirmek için eski yöntemleri bir kenara bırakıp yenilerini kullanmaktır
C) atalarımızdan gelen yöntemleri esas alıp yeni yöntemler üretmektir
D) yeni ve denenmemiş yöntemleri kullanmak yerine bilinen yöntemlerle çocuk yetiştirmektir

19. Aşağıdaki cümlelerin hangisi öğelerine yanlış ayrılmıştır?

- A) Kastamonu / sivil mimari örneklerinin bulunduğu ender illerden biridir.
B) Çatalhöyük'teki arkeolojik kazı çalışmaları / geçtiğimiz günlerde / sona erdi.
C) Konya'nın pazarlarında / her zaman / taze sebze ve meyve / bulabilirsiniz.
D) On iki bin yıllık tarihe / tanıklık eden Anadolu'da / pek çok uygarlık / kurulmuştur.

20. Aşağıdaki cümlelerin hangisinde yazım yanlışı vardır?

- A) 2010 yılında firmamızın 25'nci yılını kutlamıştık.
- B) Geçen yıl şehrimizdeki müze, 300 bin kişi tarafından ziyaret edildi.
- C) Bazı büyük gemilerin İstanbul Boğazi'ndan geçişine izin verilmedi.
- D) Arkadaşlarımla Karaköy Meydanı'nda buluşacaktık.

21. Virgül, sıralı cümleleri birbirinden ayırmak için kullanılır.

Aşağıdaki cümlelerin hangisinde virgülün bu kullanımına örnek vardır?

- A) Akşam için yerleri sildi, salonun perdelerini yıkadı, halıları balkona çıkardı.
- B) Benim sözlerim, belki daha önce de söylemiştim, sizlere örnek olacaktır.
- C) Bu çalışma bizi hedefe bir adım daha yaklaştırdı, diyerek konuşmasını sürdürdü.
- D) Canı sıkılan, sohbet etmek isteyen köylüler onu köy kahvesinde bulacağını bilirdi.

22. Yüklem bildirdiği işin kim tarafından yapıldığı belirsiz olan, öznesi belli olmayan fiiller edilgen çatılı fiil denir.

Aşağıdaki cümlelerin hangisinde bu açıklamaya uygun bir örnek vardır?

- A) Her yaştan sporcu, yüzme şampiyonasına katılabiliyor.
- B) Bu yıl Türkiye Cumhuriyeti'nin kuruluşunun 99. yıl dönümü kutlanacak.
- C) Altın Portakal Film Festivali etkinliklerine pek çok sanatçı geldi.
- D) Türk sanat müziğini sevenler için dopdolu bir program hazırladılar.

23. Fiilimsiler, fiil anlamı taşıdıkları hâlde fiiller gibi çekimlenemez. Cümlede isim, sıfat, zarf görevinde bulunur ve isim-fiil, sıfat-fiil, zarf-fiil türleri vardır.

İki kumru gelmişler balkonun

1

Demirine konmuşlar

Onları lafa tutuyorum sevinçle

2

Onlar tedirgin ürkek yan bakışlı

3

Duruyorlar öyle ben yemlerini

Sererken pencere kenarına

4

Bu açıklamaya göre, dizelerdeki numaralanmış sözcüklerden hangisi fiilimsidir?

- A) 1
- B) 2
- C) 3
- D) 4

24. Akıllı bileklikler; yürüyüş, spor, dinlenme, uyku gibi günlük faaliyetlerimizi ve bunlara bağlı olarak değişen nabız ve adım sayısını bildiren bir teknoloji ürünüdür. Aşağıdaki tabloda Zeynep'in akıllı bilekliğinden saat aralıklarına göre alınan bir haftalık verilerin ortalaması yer almaktadır.

Saat Aralığı	Ortalama Adım Sayısı	Ortalama Nabız Sayısı (Dakika)	Ortalama Uyku Süresi (Saat)
07.00 - 11.00	1.950	80	2
11.00 - 15.00	1.100	80	-
15.00 - 19.00	850	80	-
19.00 - 23.00	300	75	-
23.00 - 07.00	50	60	7

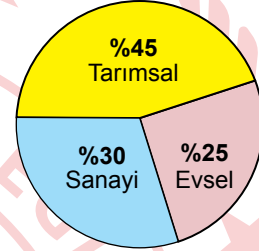
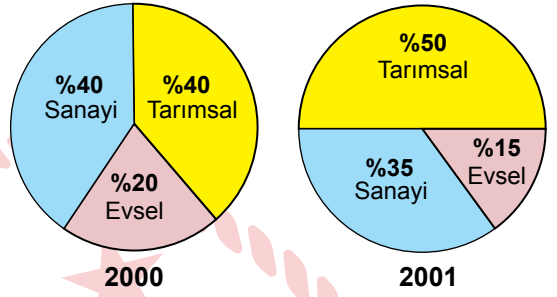
Bu bilgilerden,

1. Uyku süresinin fazla olduğu saat aralığında ortalama adım ve nabız sayısı en düşüktür.
2. Ortalama nabız sayısının aynı olduğu saat aralıklarında ortalama adım sayıları da aynıdır.
3. Saat 11.00'den sonra ortalama adım sayısı sürekli düşmüştür.

yargılarının hangilerine ulaşılır?

- A) Yalnız 1
B) Yalnız 2
C) 1 ve 3
D) 2 ve 3

25. Bir ülkenin farklı yıllara ait bazı alanlardaki su tüketim oranları grafiklerde verilmiştir.



2002

Bu grafiklere göre, aşağıdakilerden hangisi doğrudur?

- A) Tüm yıllarda sanayideki su tüketim oranı diğer alanlardan daha fazla olmuştur.
B) Tarımdaki su tüketim oranı yıllara göre sürekli artmıştır.
C) 2001 yılında evsel ve tarımsal su tüketim oranları arasındaki fark diğer yıllara göre fazladır.
D) 2002'de, 2000 yılına göre su tüketim oranı sadece bir alanda artmıştır.

04 EYLÜL 2022 TARİHİNDE YAPILAN
İLKÖĞRETİM VE ORTAÖĞRETİM KURUMLARI BURLULUK SINAVI
8. SINIF VE HAZIRLIK SINIFI "A" KİTAPÇIĞI CEVAP ANAHTARI

TÜRKÇE

1. D
2. C
3. B
4. C
5. A
6. B
7. B
8. A
9. C
10. D
11. B
12. A
13. D
14. C
15. D
16. B
17. A
18. C
19. D
20. A
21. A
22. B
23. D
24. C
25. C

MATEMATİK

1. B
2. A
3. D
4. C
5. C
6. A
7. C
8. C
9. D
10. B
11. C
12. A
13. D
14. D
15. B
16. A
17. D
18. B
19. B
20. A
21. B
22. B
23. C
24. C
25. D

FEN BİLİMLERİ

1. A
2. C
3. C
4. B
5. A
6. D
7. D
8. B
9. B
10. A
11. C
12. D
13. A
14. C
15. B
16. A
17. C
18. A
19. A
20. D
21. B
22. D
23. A
24. B
25. B

SOSYAL BİLİMLER

1. D
2. C
3. B
4. A
5. D
6. C
7. B
8. A
9. D
10. C
11. B
12. D
13. A
14. B
15. C
16. D
17. A
18. D
19. A
20. B
21. C
22. A
23. C
24. B
25. D

