



T.C.


MİLLÎ EĞİTİM BAKANLIĞI
ÖLÇME, DEĞERLENDİRME VE SINAV
HİZMETLERİ GENEL MÜDÜRLÜĞÜ

İLKÖĞRETİM VE ORTAÖĞRETİM
KURUMLARI BURLULUK SINAVI
21 NİSAN 2024 Saat: 10.00

7.
SINIF

A

KİTAPÇIK TÜRÜ



Adı ve Soyadı :


DERS ADI	SORU SAYISI	TOPLAM SORU SAYISI	SINAV SÜRESİ (DAKİKA)
TÜRKÇE	20	80	100
MATEMATİK	20		
FEN BİLİMLERİ	20		
SOSYAL BİLGİLER	20		

ADAYLARIN DİKKATİNE!

- Sınav başladıktan sonra ilk 30 dakika dolmadan ve sınav bitimine 15 dakika kala dışarı çıkmayınız.
- Sınav sırasında çanta, cep telefonu, saat, kablosuz iletişim sağlayan cihazlar ve kulaklık, kolye, küpe, bilezik, yüzük, broş ve benzeri eşyalar ile her türlü elektronik ve/veya mekanik cihazları yanınızda bulundurmuyunuz. Bu araçları yanınızda bulundurmanız ve kopya çekmeye teşebbüs etmeniz hâlinde sınavınız geçersiz sayılacaktır.
- Soruları ve sorulara verdiğiniz cevapları, yanınızda götürmek amacıyla kaydetmeyiniz; hiçbir şekilde dışarı çıkarmayınız.
- Cevap kâğıdınızı, sınav süresince hiçbir öğrencinin göremeyeceği şekilde önünüzde bulundurunuz.
- Sınavın değerlendirilmesi aşamasında, bilgisayar ortamında yapılan kopya analizinde, herhangi bir testten ikili veya toplu kopya tespiti hâlinde ilgili testiniz geçersiz sayılacaktır.

CEVAP KÂĞIDI VE SORU KİTAPÇIĞI İLE İLGİLİ AÇIKLAMALAR

- Cevap kâğıdınızdaki bilgilerin doğruluğunu kontrol ediniz ve cevap kâğıdınızı imzalayınız.
- Cevap kâğıdındaki bilgiler size ait değilse veya cevap kâğıdı kullanılmayacak durumdaysa salon görevlilerinin temin edeceği yedek cevap kâğıdına kimliğinizle ilgili bilgileri açıklamalar doğrultusunda yazınız ve kodlayınız.
- Cevap kâğıdı üzerindeki kodlamaları kurşun kalemle yapınız.
- Değiştirmek istediğiniz bir cevabı, yumuşak silgiyle cevap kâğıdını yıpratmadan temizce siliniz ve yeni cevabınızı kodlayınız.
- Kitapçık türünü cevap kâğıdınızdaki ilgili alana kodlayınız. Bu kodlamayı yapmadığınız veya yanlış yaptığınız takdirde sınavınızın değerlendirilmesi doğru yapılamayacaktır.
- Cevap kâğıdında **Türkçe, Matematik, Fen Bilimleri ve Sosyal Bilgiler** testleri için dört ayrı sütun bulunmaktadır. Cevaplarınızı, cevap kâğıdındaki ilgili sütunlara yuvarlağın dışına taşırılmadan kodlayınız.
- Soru kitapçığı üzerinde yapılabilecek cevap kâğıdına işaretlenmeyen cevaplar değerlendirmeye alınmayacaktır.**
- Soru kitapçığının sayfalarını kontrol ediniz, baskı hatası var ise değiştirilmesini sağlayınız.
- Soruların çözümü için size ayrıca boş kâğıt verilmeyecektir. Soru kitapçığının içindeki boş alanları çözümlerinizi için kullanabilirsiniz.
- Cevaplamaya istediğiniz testin sorusundan başlayabilirsiniz. Cevabını bilmediğiniz sorular üzerinde fazla zaman kaybetmeden diğer sorulara geçiniz. Zamanınız kalırsa bu sorulara daha sonra dönebilirsiniz.
- Puanlama; her test için **yanlış cevap sayısının üçte biri, doğru cevap sayısından çıkarılarak** elde edilecek geçerli cevaplar üzerinden yapılacağı için cevap kâğıdı üzerinde rastgele cevaplama yapmayınız.
- Sınav bitiminde, **soru kitapçığı ve cevap kâğıdını salon görevlilerine teslim ediniz.**



SINAV BAŞLAMADAN ÖNCE KİTAPÇIĞIN ARKA KAPAĞINDAKİ UYARILARI MUTLAKA OKUYUNUZ.

1. Ekip arkadaşları projenin zorluğunu görünce vazgeçmek istedi ama Zeynep elini taşın altına koyarak projeyi sürdürmek için uğraştı.

Bu cümledeki altı çizili deyimın anlamı aşağıdakilerden hangisidir?

- A) Bir konuda sorumluluk üstlenmek
B) Gerekli önlemleri almaya çabalamak
C) Bir işle uzun süre meşgul olmak
D) Bir işle ilgili tecrübelerini aktarmak

2. Rüzgârın şiddeti iyiden iyiye artıyordu.

1

Geminin gövdesi dev dalgalardan dolayı iyice hırpalanmış, hasar almıştı. Mürettebat, güvertede oradan oraya koşuyor, savrulan

2

eşyayı çaresizce toplamaya çalışıyordu.

3

Devrilen direklerden biri gemiyi karanlığa boğmuş, göz gözü görmez olmuştu.

4

Bu metindeki altı çizili sözcüklerden hangisi mecaz anlamda kullanılmıştır?

- A) 1 B) 2 C) 3 D) 4

3. Şimdi gezindiğim her bahçe seni soruyor bak Kalbim kuş misâli kanat çırpıyor seni haykırarak Kavuşmanın ümidiyle küller kora dönerken Yakın olur uzaklar yeter ki bir ateş yak

Bu dizelerde aşağıdaki söz sanatlarından hangisi yoktur?

- A) Kişileştirme
B) Abartma
C) Karşıtlık
D) Benzetme

4. Yolumuzun üstündeki köy kahvesinde masalar, iskemleler ve bir köşede çay ocağı vardı. Kahvenin duvarlarında Atatürk'ün, Fatih Sultan Mehmet'in, diğer Türk büyüklerinin portreleri ve rahatça görülebilecek bir yerde, kahvecinin babası veya dedesi olduğunu düşündüğüm birisinin fotoğrafı asılıydı. Masalarda kahve, çay içen; çene çalan, birbirine bağırın, kulakları duymayan, gözleri az gören ihtiyarlar...

Bu metinde aşağıdaki anlatım biçimlerinden hangisi ağır basmaktadır?

- A) Betimleme
B) Açıklama
C) Öyküleme
D) Tartışma

5. (1) Yirmi yaşından fazla göstermeyen bir delikanlı, bahçenin önündeki at arabasının üstünde oturmuş, saz çalıyordu. (2) Başını hafiften öne eğmiş ve gözlerini yere dikmiş olduğu için yüzünü tamamen göremiyorduk. (3) Sazının uzun sapı, bir aşağı bir yukarı kayan sol avucunun içinde canlı bir varlık gibi titriyordu. (4) Sağ eli kendinden emin hareketlerle sazın gövdesine her dokunuşunda gizli bir sohbetin kapılarını aralıyordu. (5) Sonra biraz duraksadı, gözleri kapandı, boğazı gerildi ve yüzü kızardı. (6) Bilindik bir türkünün bir nehir coşkunluğunu andıran dizeleri ince dudaklarının arasından dökülmeye başladı.

Bu metindeki numaralanmış cümlelerin hangilerinde benzetme yapılmıştır?

- A) 1 ve 5 B) 2 ve 3
C) 3 ve 6 D) 4 ve 6

6. Tokyo Olimpiyat Oyunları ve Paralimpik Oyunları Düzenleme Komitesi, olimpiyat oyunlarında dereceye giren sporculara verilecek madalyaların üretimi için ülke çapında bir kampanya başlattı. Madalyalar, geri dönüşüm gönderilmiş elektronik atıklardan toplanan altın, gümüş ve bronz kullanılarak üretilecek.

Bu metinden aşağıdakilerin hangisi çıkarılabilir?

- A) Olimpiyat oyunlarının her yıl Tokyo'da düzenlendiği
B) Olimpiyat oyunları için birçok kampanyanın yürütüldüğü
C) Elektronik cihazların yapımında farklı madenlerin kullanıldığı
D) Tokyo'da geri dönüşüm projelerinin çok yaygın olduğu

7. Toplantı salonlarında akustik düzenleme yapılırken bir dizi önlem alınır. ---- dışarıdan gelen seslerin ortama girişi engellenir. Ardından ortamdaki seslerin dışarı çıkışı önlenir, ---- toplantı sırasındaki gürültünün azalmasını sağlayacak malzemeler salona yerleştirilir, böylelikle düzenleme tamamlanır.

Boş bırakılan yerlere metnin anlam bütünlüğünü sağlamak için sırasıyla gelmesi gereken ifadeler aşağıdakilerin hangisinde verilmiştir?

- A) Oysaki - son olarak
B) İlk olarak - son olarak
C) Oysaki - başka bir deyişle
D) İlk olarak - başka bir deyişle

8. Yazar, okurlarına yepyeni bir hikâye dünyası kurar. Onun eserlerini okuyanlar, birer seyirci olmaktan çıkıp hikâyeyi iliklerinde duyan birer kahramana dönüşür.

Bu metindeki altı çizili sözle anlatılmak istenen aşağıdakilerden hangisidir?

- A) Küçük ayrıntıları fark edebilmek
B) Hayalle gerçeği birbirine karıştırmak
C) Bugünü önceki yaşantılarla karşılaştırmak
D) Benliğinde yoğun bir biçimde hissetmek

9. Konulan her kuralın bir nedeni, uyulmayan her kuralın bir bedeli vardır.

Aşağıdakilerden hangisi bu cümleyle anlamca en yakındır?

- A) Günlük yaşamı düzenleyen kurallara uyulmadığında kişiler arasındaki ilişkiler zarar görür.
B) Uyulmayan her kural toplumsal hayatı etkileyen kötü sonuçlar doğurabilir.
C) Kurallar birçok deneyimin sonucu olarak olumsuz durumları engellemek için oluşturulur.
D) Geçerliliğini yitirmiş olan kurallar değiştirilmezse toplumun düzeni bozulur.

10. Kokuyor burnuma Sivralan köyü
Serindir dağları soğuktur suyu
Yâr mendil göndermiş yadigâr deyi
Gözünün yaşını sil deyi yazmış

Bu dizelerin ana duygusu aşağıdakilerden hangisidir?

- A) Özlem
B) Kaygı
C) Huzur
D) Ümit

11. (1) Çiçekler her zaman insanlardan değer görmüş. (2) Dağdaki, kırdaki, bayırdaki çiçekler o kadar beğenilmişler ki ilk önce bahçelere inmiş, sonra evlere girmişler. (3) Her biri yeni alanlara, yeni coğrafyalara yayılmış. (4) Ağaç oymaların ve mermerlerin süslemelerinde, kadınların dantel ve oylarında, halı ve kilimlerde kendilerine yer bulmuşlar.

Bu parçadaki numaralanmış cümlelerin hangisinden sonra "Bu denli ilgi gören çiçekler evlerde dururlar mı hiç?" cümlesi getirilirse metnin anlam bütünlüğü sağlanmış olur?

- A) 1 B) 2 C) 3 D) 4

12. Dün sabah, çantaları ellerinde, işe giden insanları seyrettim. Bir yandan otobüse ¹ yetişebilmek için koşuşturuyorlar, bir yandan ² da üşüyen parmak uçlarını ısıtmaya çalışıyorlardı. Onları yavaşlatan rüzgâr, ³ kaldırım kenarlarında kar tepecikleri oluşturuyordu. ⁴

Bu metindeki numaralanmış fiillerden hangisi yapıcı birleşiktir?

- A) 1 B) 2
C) 3 D) 4

13. (1) Kalyonlar, 16. yüzyılda kullanılmaya başlanan savaş gemileriydi. (2) Üç büyük direğe ve onlarca yelkene sahip bu ahşap gemilerin gövdesi çok büyüktü. (3) Bu dev gemiler iki bin tona yakın yük alabildiğinden o dönemde taşımacılığın vazgeçilmezi hâline geldi. (4) 18. yüzyılda daha büyük ve hızlı olan buharlı gemilerin icadıyla kalyonlar, deniz taşımacılığındaki önemini yitirdi.

Bu metindeki numaralanmış cümlelerin hangisinde karşılaştırmaya yer verilmiştir?

- A) 1 B) 2 C) 3 D) 4

14. Aşağıdaki cümlelerin hangisinde haber (bildirme) kipi kullanılmıştır?

- A) Yaptığı resimler, o dönemde yaşamış hiçbir ressaminkine benzemez.
B) Yarım kalan işlerimizi tatile çıkmadan önce tamamlayalım.
C) Bir bahane bulup yarınki toplantıya da katılmayıver.
D) Gereksiz yere uzayan bu tartışma kavgaya dönüşmeden bitmeli.

15. Aşağıdaki cümlelerin hangisinde anlam (zaman) kayması yoktur?

- A) Doğup büyüdüğü topraklara gitmek için yarın yola çıkıyor.
B) Aradığın kalem aşağıdaki çekmecelerden birinde olacak.
C) İstanbul, uzun süren kuşatmalar sonunda fethedilir.
D) Elimizdeki işleri ne yapıp edip yarına yetiştirmeliyiz.

16. Aşağıdaki cümlelerin hangisinde büyük harflerin yazımıyla ilgili bir yanlışlık yapılmıştır?

- A) Gökyüzüne gece bakıldığında Ay'dan sonra en parlak cisim olarak Venüs görülür.
 B) Okuyucuların heyecanla beklediği Mavi Baloncuk, Mayıs ayında yayımlanacak.
 C) Bu yıl Kültür ve Turizm Bakanlığı Beyoğlu'nda büyük bir film festivali düzenleyecek.
 D) Bir gün Ankara'ya yolunuz düşerse Kuşulu Park'ı da görmeyi unutmayın.

17. İnsanlar, kuşlar gibi uçabilen bir makine tasarlamak için yüzlerce yıl çalıştı. Bu çalışmalar sonucunda ilk olarak kanatlı ve motorsuz hava aracı olan planörler tasarlandı. Fakat planörleri havalandıktan sonra ileriye doğru hareket ettirmek ve kontrol etmek oldukça zordu. Bu sorunu gören Wright Kardeşler, pervaneleri döndürmeyi sağlayan motoru ilk defa kullanarak kendi hava araçlarını yaptılar. Bu uçaktan sonra çalışmalar hızlandı ve ahşap gövdeli uçaklar üretildi. Bunlar sağlam olmasına rağmen yavaş uçuyorlar ve çok yakıt tüketiyorlardı. Teknoloji geliştikçe ahşap uçaklar yerini jet motorlu, metal gövdeli uçaklara bıraktı.

Bu metinde, aşağıdakilerden hangisine değinilmemiştir?

- A) Uçakların özelliklerinin zamanla değiştiğine
 B) İlk uçuşların motorsuz araçlarla yapıldığına
 C) Hava koşullarının planörlerin hareketlerini etkilediğine
 D) Wright Kardeşler'in motorlu uçağı icat ettiklerine

18. Bağışıklık sistemimiz için büyük bir öneme sahip olan D vitaminini yaz aylarında güneşten fazlasıyla alırız. Ancak güneşli günlerin az olduğu sonbahar ve kış aylarında, ihtiyacımız olan bu vitamini süt, süt ürünleri, balık, yumurta, mantar ve maydanoz gibi gıdaları tüketerek elde edebiliriz. İçinde bolca D vitamini barındıran bu besinleri tüketmek bizi nezle ve grip gibi vücut direncini düşüren hastalıklardan koruyacaktır.

Bu metinden D vitaminiyle ilgili;

1. doğal yollarla elde etmenin zor olduğu,
2. birçok besin maddesinde bulunduğu,
3. vücudumuzun depolamakta güçlük çektiği

ifadelerinden hangilerine ulaşılır?

- A) Yalnız 1
 B) Yalnız 2
 C) 1 ve 3
 D) 2 ve 3

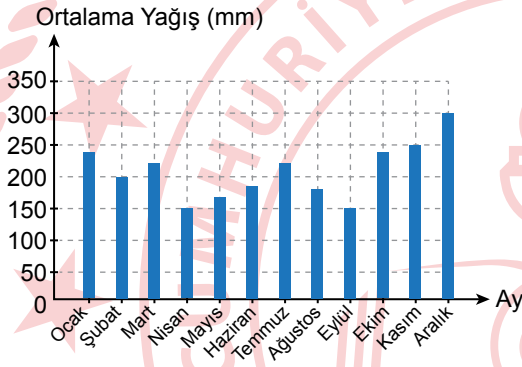
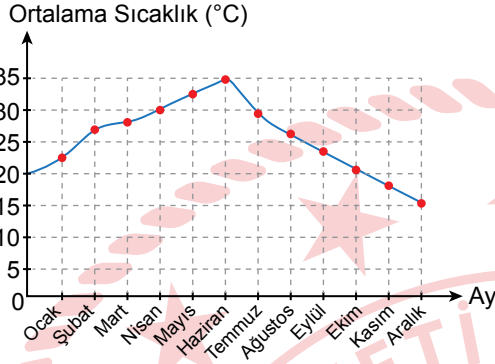
19. Otobüsle köprüden geçiyorduk () Masmavi denizi ve rengarenk evleri gören Çiçek Hanım'ın ilk sözü şu oldu ()

() Suyun hemen kıyısına kurmuşlar evleri () su alıp götürmez mi onları ()

Bu metinde yay ayraçla () gösterilen yerlere sırasıyla gelmesi gereken noktalama işaretleri aşağıdakilerin hangisinde verilmiştir?

- A) (...) (:) (") (.) ("")
 B) (.) (:) (—) (,) (?)
 C) (...) (:) (—) (.) (?)
 D) (.) (:) (") (,) ("")

20. Yağmur ormanlarının 12 aylık sıcaklık ve yağış ortalamalarına ait grafikler aşağıda verilmiştir.



Bu grafiklere göre, aşağıdakilerden hangisi yanlıştır?

- A) Ortalama yağış miktarının en yüksek olduğu aralık ayında ortalama sıcaklık en düşük seviyededir.
- B) Nisan ayındaki ortalama sıcaklık eylülde daha yüksekken bu iki ayın ortalama yağış miktarları aynıdır.
- C) Ortalama sıcaklığın en yüksek olduğu haziran ayında ortalama yağış miktarı en düşük seviyededir.
- D) Kasım ayında bir önceki aya göre ortalama yağış miktarı artarken ortalama sıcaklık düşmüştür.

21 NİSAN 2024 TARİHİNDE YAPILAN
İLKÖĞRETİM VE ORTAÖĞRETİM KURUMLARI BURSLULUK SINAVI
7. SINIF "A" KİTAPÇIĞI CEVAP ANAHTARI

TÜRKÇE

1. A
2. D
3. B
4. A
5. C
6. C
7. B
8. D
9. C
10. A
11. B
12. A
13. D
14. A
15. D
16. B
17. C
18. B
19. B
20. C

MATEMATİK

1. C
2. B
3. A
4. D
5. A
6. D
7. C
8. C
9. B
10. B
11. D
12. C
13. A
14. C
15. B
16. D
17. A
18. D
19. B
20. C

FEN BİLİMLERİ

1. D
2. D
3. A
4. B
5. C
6. C
7. A
8. B
9. D
10. C
11. B
12. B
13. A
14. D
15. C
16. B
17. A
18. B
19. D
20. C

SOSYAL BİLGİLER

1. A
2. B
3. C
4. D
5. D
6. C
7. B
8. A
9. D
10. A
11. B
12. C
13. D
14. C
15. A
16. B
17. A
18. B
19. C
20. A

