



T.C.


MİLLÎ EĞİTİM BAKANLIĞI  
ÖLÇME, DEĞERLENDİRME VE SINAV  
HİZMETLERİ GENEL MÜDÜRLÜĞÜ

İLKÖĞRETİM VE ORTAÖĞRETİM  
KURUMLARI BURLULUK SINAVI  
21 NİSAN 2024 Saat: 10.00

6.  
SINIF

A

KİTAPÇIK TÜRÜ



Adı ve Soyadı : .....


DERS ADI	SORU SAYISI	TOPLAM SORU SAYISI	SINAV SÜRESİ (DAKİKA)
TÜRKÇE	20	80	100
MATEMATİK	20		
FEN BİLİMLERİ	20		
SOSYAL BİLGİLER	20		

#### ADAYLARIN DİKKATİNE!

- Sınav başladıktan sonra ilk 30 dakika dolmadan ve sınav bitimine 15 dakika kala dışarı çıkmayınız.
- Sınav sırasında çanta, cep telefonu, saat, kablosuz iletişim sağlayan cihazlar ve kulaklık, kolye, küpe, bilezik, yüzük, broş ve benzeri eşyalar ile her türlü elektronik ve/veya mekanik cihazları yanınızda bulundurmuyunuz. Bu araçları yanınızda bulundurmanız ve kopya çekmeye teşebbüs etmeniz hâlinde sınavınız geçersiz sayılacaktır.
- Soruları ve sorulara verdiğiniz cevapları, yanınızda götürmek amacıyla kaydetmeyiniz; hiçbir şekilde dışarı çıkarmayınız.
- Cevap kâğıdınızı, sınav süresince hiçbir öğrencinin göremeyeceği şekilde önünüzde bulundurunuz.
- Sınavın değerlendirilmesi aşamasında, bilgisayar ortamında yapılan kopya analizinde, herhangi bir testten ikili veya toplu kopya tespiti hâlinde ilgili testiniz geçersiz sayılacaktır.

#### CEVAP KÂĞIDI VE SORU KİTAPÇIĞI İLE İLGİLİ AÇIKLAMALAR

- Cevap kâğıdınızdaki bilgilerin doğruluğunu kontrol ediniz ve cevap kâğıdınızı imzalayınız.
- Cevap kâğıdındaki bilgiler size ait değilse veya cevap kâğıdı kullanılmayacak durumdaysa salon görevlilerinin temin edeceği yedek cevap kâğıdına kimliğinizle ilgili bilgileri açıklamalar doğrultusunda yazınız ve kodlayınız.
- Cevap kâğıdı üzerindeki kodlamaları kurşun kalemle yapınız.
- Değiştirmek istediğiniz bir cevabı, yumuşak silgiyle cevap kâğıdını yıpratmadan temizce siliniz ve yeni cevabınızı kodlayınız.
- Kitapçık türünü cevap kâğıdınızdaki ilgili alana kodlayınız. Bu kodlamayı yapmadığınız veya yanlış yaptığınız takdirde sınavınızın değerlendirilmesi doğru yapılamayacaktır.
- Cevap kâğıdında **Türkçe, Matematik, Fen Bilimleri ve Sosyal Bilimler** testleri için dört ayrı sütun bulunmaktadır. Cevaplarınızı, cevap kâğıdındaki ilgili sütunlara yuvarlağın dışına taşırmadan kodlayınız.
- Soru kitapçığı üzerinde yapılabilecek cevap kâğıdına işaretlenmeyen cevaplar değerlendirmeye alınmayacaktır.**
- Soru kitapçığının sayfalarını kontrol ediniz, baskı hatası var ise değiştirilmesini sağlayınız.
- Soruların çözümü için size ayrıca boş kâğıt verilmeyecektir. Soru kitapçığının içindeki boş alanları çözümleriniz için kullanabilirsiniz.
- Cevaplamaya istediğiniz testin sorusundan başlayabilirsiniz. Cevabını bilmediğiniz sorular üzerinde fazla zaman kaybetmeden diğer sorulara geçiniz. Zamanınız kalırsa bu sorulara daha sonra dönebilirsiniz.
- Puanlama; her test için yanlış cevap sayısının **üçte biri, doğru cevap sayısından çıkarılarak** elde edilecek geçerli cevaplar üzerinden yapılacağı için cevap kâğıdı üzerinde rastgele cevaplama yapmayınız.
- Sınav bitiminde, soru kitapçığı ve cevap kâğıdını salon görevlilerine teslim ediniz.



SINAV BAŞLAMADAN ÖNCE KİTAPÇIĞIN ARKA KAPAĞINDAKİ UYARILARI MUTLAKA OKUYUNUZ.

1. "Tutmak" sözcüğü aşağıdaki cümlelerin hangisinde "herhangi bir durumda kalmasını sağlamak" anlamında kullanılmıştır?

- A) Otelin denize bakan tarafından büyük bir oda tuttum.  
B) Odasının kapısını her zaman kapalı tutardı.  
C) Ziyaretine gelen tüm misafirlere nane şekeri tutardı.  
D) Adam elinde bir buket kırmızı gül tutuyordu.

2. (1) Afyonkarahisar'ın Sinanpaşa ilçesine bağlı Düzağaç köyünde, köylülerin ve yoldan gelip geçenlerin uğradığı bir pınar vardır. (2) Bu pınar Anadolu'nun Türkleşmesi sırasında Erenler Pınarı adını almıştır. (3) Yunan işgali boyunca suyunu düşman askerinden gizleyen pınar, Büyük Taarruz başlayınca coşmuş, ayna gibi olmuş ve yöreye gelen Türk askerlerine yeniden kucak açmıştır. (4) Savaş yılları geçtikten sonra köy halkı pınarın üzerine değirmenler kurmuş ve bu değirmenler uzun yıllar kullanılmıştır.

Bu metindeki numaralanmış cümlelerin hangisinde kişisel bir görüşe yer verilmiştir?

- A) 1 B) 2 C) 3 D) 4

3. En iyi öğretmenler zaferler değil, yenilgilerdir.

Aşağıdakilerden hangisi bu cümleye anlamca en yakındır?

- A) Yenilgiler başarılar göre daha çok şey öğrenme fırsatı sunar.  
B) Başarısızlıklar çok şey öğretse de zafere ulaştırmaz.  
C) Küçük yenilgiler büyük başarıların habercisidir.  
D) Başarısızlığı göze alamayanlar zafer kazanamaz.

4. (1) Kutup ışıkları, Dünya'nın yalnızca Kuzey ve Güney Kutbu'nda rastlanan bir doğa olayıdır. (2) Bu ışıklar Dünya'yı saran atmosferde mavi, sarı, kırmızı ve yeşil renklerde görünür. (3) Gökyüzünün çok yukarılarında meydana gelen bu ışıklar bazen geniş bir alana yayılır. (4) Pek çok ülkeden izlenebilen bu ışıkları, Türkiye, kutup bölgelerine uzak olduğu için bizim izleyebilmemiz mümkün değildir.

Bu metindeki numaralanmış cümlelerin hangisinde neden-sonuç ilişkisi vardır?

- A) 1 B) 2 C) 3 D) 4

5. Aşağıdaki cümlelerin hangisinde altı çizili sözcük, karşısında verilen anlama uygun kullanılmamıştır?

	Cümle	Anlam
A)	Yüksek bir tepeye çıkınca rüzgâr daha da <u>sertleşti</u> .	Gücü artmak, zorlu bir durum almak
B)	Masanın üzerine çiçekli bir örtü <u>serdi</u> .	Kurutmak için asmak
C)	Eski dolabı kaldırıncı da biraz <u>ferahladı</u> .	Bir yer rahat, iç açıcı duruma gelmek
D)	Yeni iş yerini kısa sürede <u>benimsedi</u> .	Bir şeye, birine bağlanmak, ısınmak

6. Dünya üzerindeki tüm denizler farklı yaşam alanları barındırır. Okyanuslarda ve açık denizlerde dev balinalar, göçebe foklar, yırtıcı köpek balıkları yaşarken kıyılarda daha küçük balıklar ve mercan resifleri yaşamaktadır. Kıyıların daha sıcak kesimlerinde ise küçük deniz canlılarına ev sahipliği yapan, devasa deniz yosunlarından oluşan ormanlar bulunur. Çevre koşullarına bağlı olarak bu alanlar değiştiğinde, denizlerdeki birçok tür yeni yaşam alanlarına uyum sağlayarak var olmaya devam eder.

**Bu metne getirebilecek en uygun başlık aşağıdakilerden hangisidir?**

- A) Çevre kirliliğinin deniz üzerindeki etkisi
- B) Deniz canlıların barınma yöntemleri
- C) İklimin yaşam alanlarının değişmesindeki rolü
- D) Deniz canlılarının yaşam alanları

7. Rasim Bey, yeni aldığı tabloyu duvara asmak ister. Evde çivi bulur ama çekiç yoktur. Komşusuna gidip ondan çekiç istemeye karar verir. Ancak o anda şüpheye düşer. "Ya vermek istemezse? Zaten dün de beni soğuk bir selamla geçiştirdi. Belki bir acelesi vardı, belki de bilerek yaptı. Bilmiyorum. Birisi benden ödünç bir şey istese ben verirdim. O niye vermiyor? Üstüne üstlük sırf bir çekici var diye ona muhtacım sanıyor." Öfkeyle kalkıp karşı daireye gider, kapıyı çalar. Komşusu güler yüzle kapıyı açar ama daha "Merhaba." bile diyemeden Rasim Bey ona bağıır: "Al çekicini, başına çal! Komşusu, onun bu davranışına anlam vermeye çalışırken Rasim Bey kendi dairesine döner ve kapıyı hızla çarpar.

**Bu metnin ana düşüncesi aşağıdakilerden hangisidir?**

- A) Kişiler hakkında yanlış ve yersiz düşüncelere kapılmak ilişkileri olumsuz etkiler.
- B) Komşularıyla yardımlaşma içinde olanlar huzurlu bir yaşam sürer.
- C) Kendisinden başkasını düşünmeyenler, hiçbir zaman kalıcı dostluklar kuramaz.
- D) Başkasının iyiliğini istemeyenler hayatları boyunca mutlu olamaz.

8. Aşağıdaki cümlelerin hangisinde altı çizili sözcük mecaz anlamıyla kullanılmamıştır?

- A) Başkaları dâhil olunca aralarındaki tartışma daha da alevlendi.
- B) Söylediklerinin yapılmadığını fark edince herkesi paraladı.
- C) Kanalda biriken pis sular sokaklara aktı.
- D) Bu konunun üzerine uzun uzadıya eğildi.

9. (1) Haftalar önce geldiğim bu sessiz sakin yerde, uzun bir akşam gezisinden dönüyorum. (2) Biçilmiş tarlaların ortasında uzanan patikada yürürken karşı tepenin üstündeki taş bina dikkatimi çekiyor. (3) Yıkık duvarlı bir bahçenin ortasındaki bu yapının, harap bir kaleyi andıran görüntüsü beni etkiliyor. (4) Vaktin erken olduğunu düşünerek bu binayı daha yakından görme isteğiyle tepeye tırmanıyorum.

**Bu metindeki numaralanmış cümlelerin hangisinde benzetme vardır?**

- A) 1
- B) 2
- C) 3
- D) 4

10. Avustralyalı araştırmacılar, Antarktika'nın çok soğuk ve su miktarı çok az olan bir bölgesinde yeni bir bakteri türü keşfetti. Bu bakterinin, olumsuz yaşam koşulları karşısında, şimdiye kadar bilinen tüm bakterilere göre daha dayanıklı olduğu söyleniyor. Hava dışında başka bir şeye ihtiyaç duymayan bakteri, bu özelliğiyle diğer tüm bakterilerden ayrılıyor. Bakterinin bu yönü başka gezegenlerde yaşam olma ihtimalini güçlendiriyor.

**Bu metinden aşağıdakilerin hangisine kesinlikle ulaşılr?**

- A) Avustralyalı bilim insanlarının sadece bakteriler üzerine çalışma yaptığına
- B) Bazı bakterilerin farklı gezegenlerde yaşadığına
- C) Kötü yaşam koşullarının bakterilerin yaşam süresini kısalttığına
- D) Keşfedilen bakterinin bazı yönleriyle ilk olma özelliği taşıdığına

11. Defne ve arkadaşları, ellerindeki haritadan daha önce geçmedikleri sokakları takip ederek meydana ulaştılar. Böylelikle yeni yerler de öğrenmiş oldular. Haritayla gezmeyi çok seven Defne, arkadaşlarına heyecanla "Haritada gösterilen diğer sokakları kullanarak eve dönmeye ne dersiniz?" diye sordu. Hepsisi bu fikri çok beğendi ve neşeye yeni sokaklardan geçerek evlerine döndüler.

**Bu metinde aşağıdaki hikâyeye unsurlarından hangisi yoktur?**

- A) Kişi
- B) Zaman
- C) Olay
- D) Mekân

12. (1) Şiirin dili günlük konuşma diline göre daha coşkulu, kendine özgü nitelikleri olan, yaratıcı bir dildir. (2) Şiir hayallerle şekillendiği için onun okuyucusunu özgürleştiren bir tarafı var. (3) Her duyguyu kendi tarzında ifade etmek isteyen biri için şiir kusursuz bir tür. (4) Çünkü onunla bütün duyguları ustaca dile getirmek mümkün.

**Bu metindeki numaralanmış cümlelerin hangisinde karşılaştırma yapılmıştır?**

- A) 1
- B) 2
- C) 3
- D) 4

13. Aşağıdaki cümlelerin hangisinde koşul anlamı vardır?

- A) Perdeyi açınca gördüğü manzara karşısında şaşkınlığını gizleyemedi.
- B) İklim değişikliklerinden dolayı bazı canlı türleri yok olmaktadır.
- C) Küresel ısınma bu hızla devam ederse Buzul Çağı tekrar yaşanabilir.
- D) Eşyalarını o kadar özensiz kullandı ki odasında sağlam bir tane eşya kalmadı.

14. Aşağıdaki cümlelerin hangisinde yazım yanlışı vardır?

- A) Yaşadığımız bölgedeki iklim koşulları fındık yetiştirmeye elverişlidir.
- B) Dünya üzerindeki suyun çok azı içilebilir özelliğe sahiptir.
- C) Olurda sizi bir daha göremezsek şimdiden vedalaşalım.
- D) Teyzemin yaptığı yemeklerde başka bir lezzet oluyor.

15. Şu kızıl rüzgârlar esen diyarda,  
1  
Sular bir yolcudur gider yolunca,  
2  
Meriç kaybolurken sisli dağlarda,  
3  
Bir nar bahçesidir köprüde Tunca,  
4

**Bu dizelerdeki numaralanmış sözcüklerden hangileri sıfattır?**

- A) 1 ve 3  
B) 1 ve 4  
C) 2 ve 3  
D) 2 ve 4

16. İlbaharın habercisi olan açık bir gecede  
1 2  
sırtüstü uzanarak gökyüzünü izlemeye  
3 4  
koyuldu.

**Bu cümledeki numaralanmış sözcüklerden hangisi yapısı bakımından farklıdır?**

- A) 1 B) 2 C) 3 D) 4

17. Aşağıdaki altı çizili isim tamlamalarından hangisinin türü farklıdır?

- A) Cama vuran yağmur damlalarını izlemeyi küçüklüğünden beri çok severdi.  
B) Elektrik tellerine konan kuşlar birdenbire havalandı.  
C) Soğuğun kendini iyiden iyiye hissettirdiği bir çarşamba gecesiydi.  
D) Merdivenin basamağına oturup etrafına dalgın dalgın bakındı.

18. Uzun ve bir o kadar da yorucu bir  
1  
yolculuğun ardından, evimize varmak bizi  
2 3  
mutlu etti.  
4

**Bu cümledeki numaralanmış sözcüklerden hangisi hem yapım hem de çekim eki almıştır?**

- A) 1 B) 2 C) 3 D) 4

19. Doğup büyüdüğü coğrafya etkiler insanın kişiliğini. İnsanın macerası biraz da yaşadığı yerin macerasıdır. İki şehrin, şehir ile kasabanın, köy ile mezranın kültürleri arasındaki fark; doğrudan yansır insanın benliğine. Hatta bir şehrin iki ayrı semtinde yaşayan insanlar bile farklı kişilikler kazanır birbirinden.

**Bu metne göre,**

- Şehirlerin kendine has kültür özellikleri vardır.
- İnsanın davranışları ve alışkanlıkları ait olduğu kültüre göre şekillenir.
- Yerleşim yerlerinin sınırlarının belirlenmesinde kültür etkilidir.

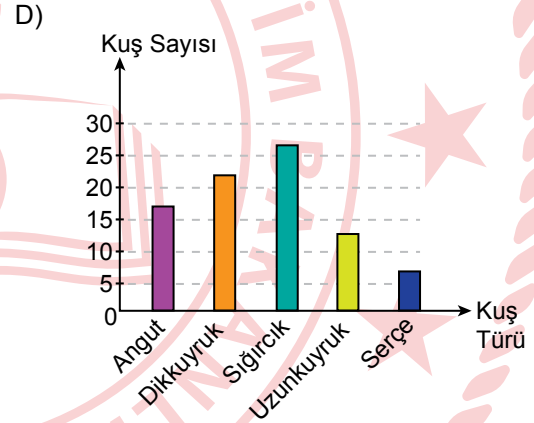
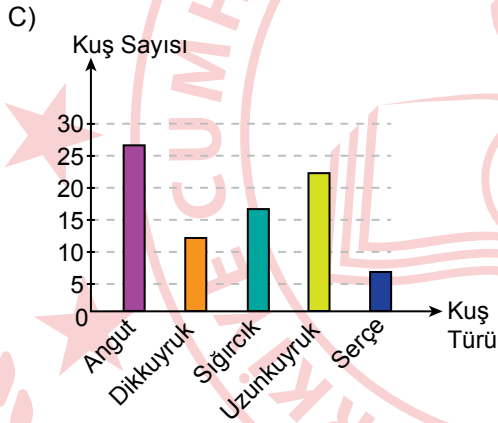
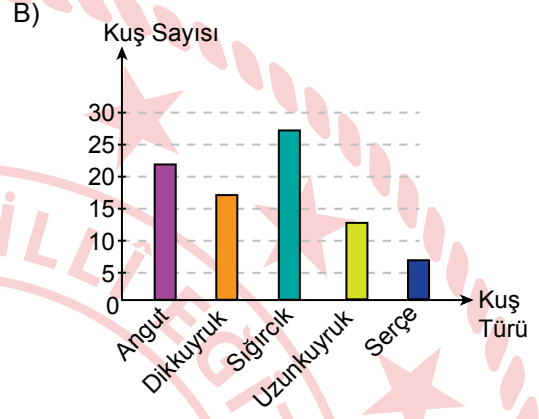
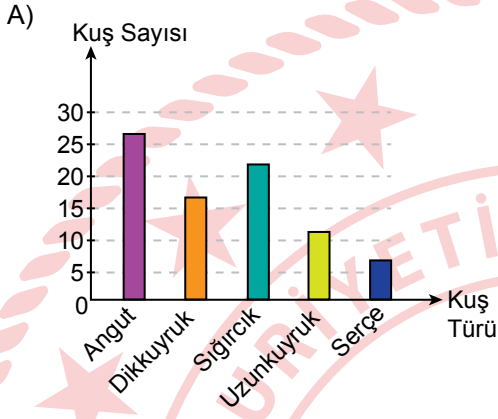
**yargılarından hangileri çıkarılabilir?**

- A) Yalnız 1 B) Yalnız 2  
C) 1 ve 2 D) 1 ve 3

20. Bir gölde bulunan angut, dikkuyruk, sıgırcık, uzunkuyruk ve serçe kuşlarının sayılarıyla ilgili bilinenler şunlardır:

- Uzunkuyruk sayısı dikkuyruk ve sıgırcıktan az, serçeden fazladır.
- Sıgırcık sayısı dikkuyruktan fazla, anguttan azdır.

Buna göre, kuş türlerini ve sayılarını gösteren grafik aşağıdakilerden hangisi olabilir?



21 NİSAN 2024 TARİHİNDE YAPILAN  
İLKÖĞRETİM VE ORTAÖĞRETİM KURUMLARI BURSLULUK SINAVI  
6. SINIF "A" KİTAPÇIĞI CEVAP ANAHTARI

TÜRKÇE

1. B
2. C
3. A
4. D
5. B
6. D
7. A
8. C
9. C
10. D
11. B
12. A
13. C
14. C
15. A
16. B
17. D
18. B
19. C
20. A

MATEMATİK

1. B
2. C
3. D
4. C
5. D
6. B
7. D
8. B
9. A
10. C
11. B
12. A
13. B
14. C
15. D
16. A
17. C
18. A
19. C
20. D

FEN BİLİMLERİ

1. C
2. D
3. B
4. A
5. D
6. D
7. A
8. C
9. B
10. B
11. A
12. B
13. C
14. B
15. D
16. C
17. A
18. A
19. C
20. D

SOSYAL BİLGİLER

1. A
2. D
3. C
4. B
5. B
6. D
7. C
8. A
9. B
10. A
11. D
12. C
13. D
14. A
15. C
16. A
17. C
18. D
19. C
20. B

