



6. Tema

1. Aşağıda bazı gezegenlerin Güneş'e göre konumları, uydu sayıları ve Güneş'in etrafında kaç Dünya gününde döndükleri hakkında bilgi verilmiştir:

- Uranüs, Güneş'in etrafındaki turunu en uzun sürede tamamlamaktadır.
- Güneş'e en yakın gezegen, Güneş etrafındaki turunu diğerlerinden daha erken tamamlar.
- En çok uydusu olan gezegen, Güneş etrafındaki turunu Mars'tan ve Venüs'ten daha uzun sürede tamamlamaktadır.

Bu bilgiler aşağıdaki tablolardan hangisi ile örtüşür?

A)

Güneş'e Göre Konumu (Yakından Uzağa)	Uydu Sayısı	Güneş Etrafındaki Bir Turu (Gün)
Merkür	Yok	88
Venüs	Yok	224
Mars	2	687
Jüpiter	79	4333
Uranüs	27	30687

B)

Güneş'e Göre Konumu (Yakından Uzağa)	Uydu Sayısı	Güneş Etrafındaki Bir Turu (Gün)
Merkür	Yok	88
Venüs	Yok	224
Mars	2	4333
Jüpiter	79	687
Uranüs	27	30687

C)

Güneş'e Göre Konumu (Yakından Uzağa)	Uydu Sayısı	Güneş Etrafındaki Bir Turu (Gün)
Merkür	Yok	224
Venüs	Yok	88
Mars	2	687
Jüpiter	79	4333
Uranüs	27	30687

D)

Güneş'e Göre Konumu (Yakından Uzağa)	Uydu Sayısı	Güneş Etrafındaki Bir Turu (Gün)
Merkür	Yok	88
Venüs	Yok	224
Mars	2	687
Jüpiter	79	30687
Uranüs	27	4333

2. Zamanla nasıl değişiyor insan

Hangi resmime baksam ben değilim

“Bakmak” sözcüğü aşağıdaki cümlelerin hangisinde bu dizelerdeki anlamıyla kullanılmıştır?

- A) Limana bakan penceresinden deniz görünürdü.
- B) Bu manzaraya bakmak insana huzur verir.
- C) Kumaşın rengi yeşile bakıyor.
- D) Üç çocuklu bir aileye bakıyor.

6. Tema

3. — Sana karga ile tilkiyi anlatayım.

— Hayır, hayır dedeciğim; o çok kısa bir masal.

— -----

— O da kısa bir masal dede. Hem leylek, tilkiye oyun yapmak için o dar boynuzlu sürahiyi nereden bulmuş? Onun evinde sürahi mi var?

— -----

— Niçin oluyor dedeciğim?

— Masalı çocuklar sever de ondan. Çocukların hoşuna gitsin diye tüm bunlar.

Bu konuşmada boş bırakılan yerlere düşüncenin akışına göre aşağıdaki cümlelerden hangileri sırasıyla getirilmelidir?

A) — Sana leylek ile tilki masalını hiç anlatmamıştım. En iyisi bunu dinle.

— Neden, leyleklerin evinde sürahi olmaz mı sanıyorsun?

B) — Bir leyleğin tilkiye nasıl oyun ettiğini anlatayım sana o zaman.

— Masallardaki her şeyi gerçek sanmamalısın yavrum.

C) — O zaman sana leylek ile tilki masalını anlatayım.

— Bunlar masal yavrucuğum, masalarda her şey olur.

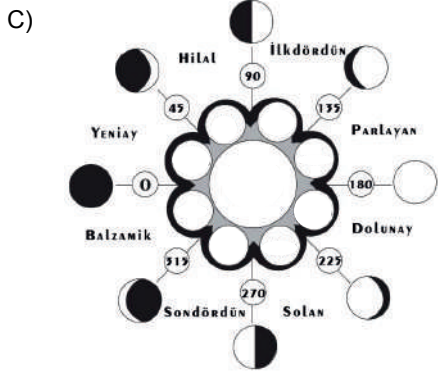
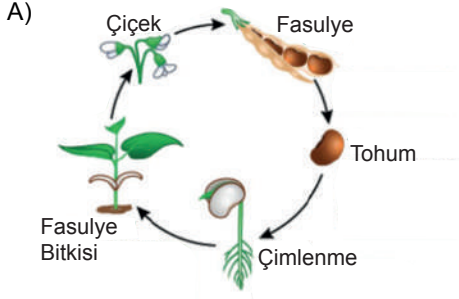
D) — Peki yavrum, hangi masalı anlatmamı istediğini sen söyle.

— Masalarda akla hayale sığmayan çok şey olur yavrum.

6. Tema

4. Hiç durmadan tekrarlanan bir dizi değişime “döngü” denir.

Buna göre aşağıdaki görsellerden hangisi bir döngüyü ifade etmez?



5. Kişiyeye bir işi kendi başına yapmayı öğretirsen o zaman kişi iyi olur. Yalnızca bir şey verip hiçbir şey öğretmezsen o zaman kişiyeye geri kalan yaşamı boyunca sürekli veriyor olursun.

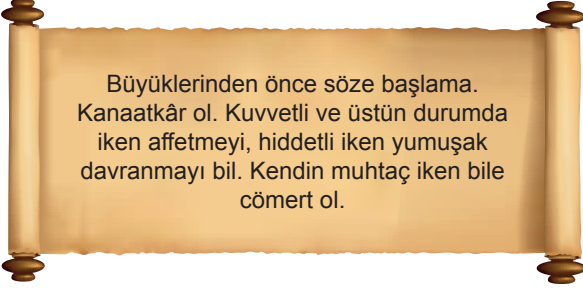
Aşağıdaki şiirlerden hangisi bu metin ile aynı mesajı sahiptir?

- A) Bir kez ağaç dikersen on kez ürün verir
Yüz kez olur bu ürün halkı eğitirsen
Balık verirsen bir kez, doyurursun halkı
Öğretirsen balık tutmayı, hep doyar karnı
- B) Kitap en iyi arkadaş
Bana neyi sorsam söyler
Ne anlatsa en sonunda
Çalış; iyi, doğru ol der
- C) Her şeyi yazarım da
Zamanı yazamam
O yazar çünkü
Beni
- D) Arı gezer, çiçek emer
Kuşlar uçar, bir yem arar
Orman renkten renge girer
Her tarafta çalışmak var
6. Nikola Tesla, dünya bilim tarihini etkileyen birçok çalışmaya imza atmıştır. Örneğin elektriğin kablosuz olarak taşınabileceğini ispatlamış, böylece kablosuz iletişimin temelini atmıştır.

Bu parçadaki altı çizili sözle anlatılmak istenen aşağıdakilerden hangisidir?

- A) Bir araya getirmek
B) Çözüm üretmek
C) Başlangıç oluşturmak
D) En iyi örnek olmak

7.



Aşağıdaki sözlerden hangisi bu parçadaki nasihatlerden herhangi biri ile ilişkilendirilemez?

- A) İradene hâkim, vicdanına esir ol.
- B) Elindekiyle yetinmeyen elde edeceği ile de yetinmez.
- C) Bulut gibi damlayla su al denizden, verdiği bol bol ver esirgemedem.
- D) Adalet, kutup yıldızı gibi yerinde durur ve geri kalan her şey onun etrafında döner.

8. “Nedenler Ansiklopedisi” isimli kitapta farklı alanlara ait pek çok bilgi, sebep-sonuç ilişkisi çerçevesinde okuyucuyla buluşturulmuştur.

Buna göre aşağıdakilerden hangisinin sözü edilen ansiklopedide yer alması beklenmez?

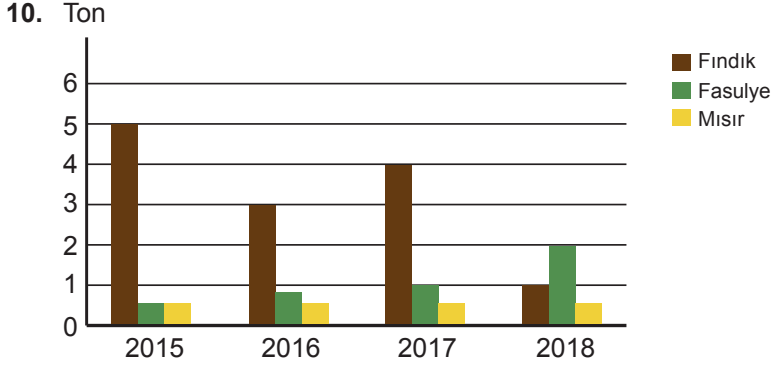
- A) Bazı bilim insanları Ay’ın, Dünya ile bir başka gök cisminin çarpışması sonucu açığa çıkan parçacıkların birleşmesiyle oluştuğunu varsayıyor.
- B) Kuyruklarında bulunan pervaneler, helikopterlerin havada dengeli şekilde kalmasını ve hareket etmesini sağlayan mekanizmalardır.
- C) İzmir’in Selçuk ilçesine bağlı Efes Antik Kenti’ndeki tarihî kütüphane, en çok rağbet gören yapılar arasındadır. Kütüphanenin, İyonya Dönemi’ne ait olduğu tahmin edilmektedir.
- D) Uçmak insanların birçoğuna keyif verir. Ancak yerden yükselince atmosfer basıncı, sıcaklık ve havanın içindeki oksijenin azalması insan sağlığı üzerinde olumsuz etkilere yol açabilir.

9. Uzaya gönderilen ilk canlı, Layka isimli bir köpek; uzaya çıkan ilk insan Kozmonot Yuri Gagarin’dir. İlk uzay yürüyüşü ise Aleksey Leonov tarafından 1965’te gerçekleştirildi. 1960’lı yıllarda başlayan insanlı uzay uçuşlarında bugüne dek birçok astronot ve kozmonot görev aldı. Hepsi de görevlerini güvenli bir şekilde yerine getirebilmeleri için tasarlanmış özel uzay giysileri giydi.

Bu metinden aşağıdaki bilgilerden hangisine kesin olarak ulaşılır?

- A) Uzay uçuşlarında görev alan kozmonot ve astronotlar, uzun süren eğitimlerden geçirilir.
- B) Uzaya çıkan ilk insan olan Yuri Gagarin, bunu 1961’de gerçekleştirmiştir.
- C) Uzay giysileri ilk olarak 1960’ta tasarlanmıştır.
- D) Uzaya insandan başka canlılar da gönderilmiştir.

10 ve 11. soruları aşağıdaki grafiğe göre cevaplayınız.

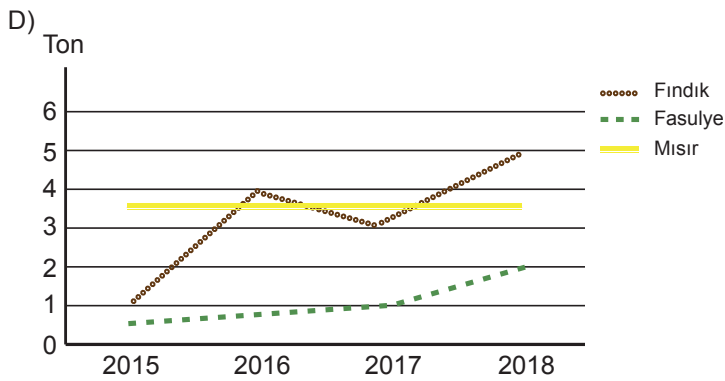
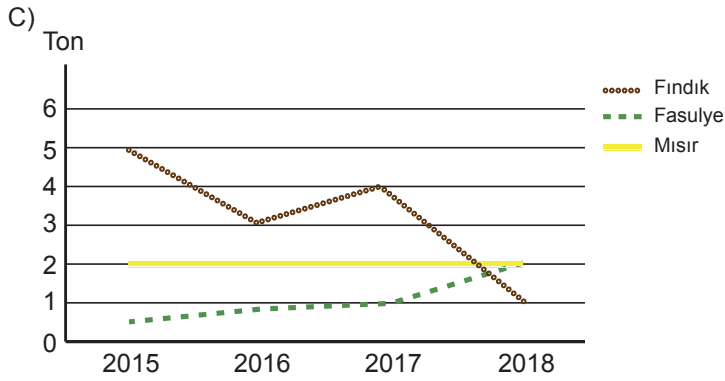
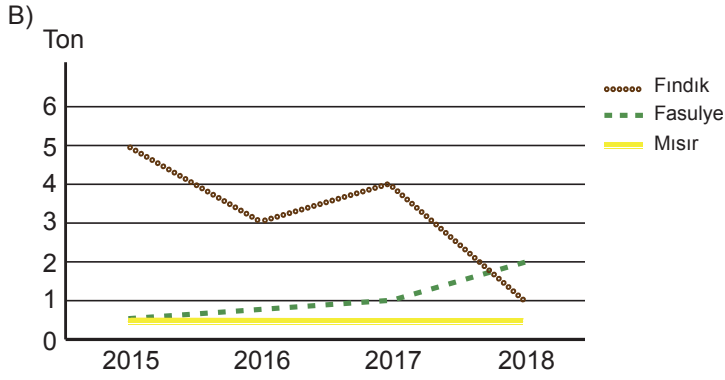
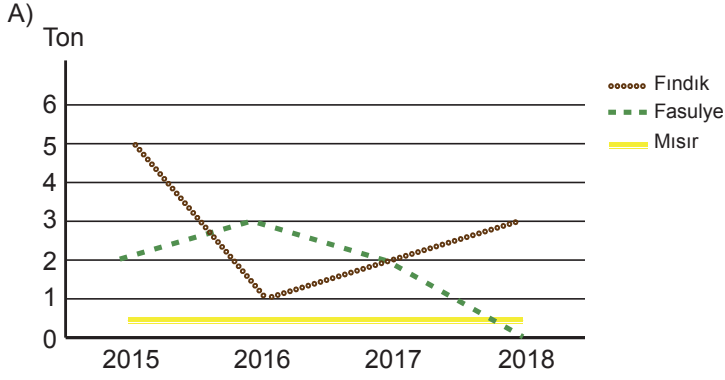


Grafikte bir çiftçinin, arazilerinden elde ettiği fındık, fasulye ve mısır miktarının ton cinsinden yıllara göre dağılımı verilmiştir.

Bu grafikten hareketle aşağıdakilerin hangisi söylenemez?

- A) Fasulye üretim miktarı her yıl artmıştır.
- B) Mısır üretim miktarında yıllara göre bir değişim görülmemektedir.
- C) Tüm yıllarda en yüksek üretim miktarı fındıkta gerçekleşmiştir.
- D) 2017 fasulye üretimi ile 2018 fındık üretimi aynı miktardadır.

11. Bu grafiğin, çizgi grafiğe dönüştürülmüş hâli aşağıdakilerden hangisidir?



12. Aşağıdakilerin hangisinde birinci dize, ikinci dizinin nedeni durumundadır?

- A) Hele bir gör sonbahar bahçelerini
Sarışın gülleri hatırlatır ayva
- B) Gün olur bir hasret türküsü söylerim
Türkülerinde garipliğimi eylerim
- C) Sayısız hatıralar çıkıyor her yokuştan
Bir şarkı aksediyor ağaçta öten kuştan
- D) Bulutlar doymamış olacaklar ki yeşile
İnivermişler masmavilikten gölün içine

- 13.**
- Özbekistan'ın Harezmi Bölgesi'nde doğan Harizmi, cebir ve algoritmanın babasıdır.
 - Sıfır sayısını kullanan ilk kişidir.

Bu cümlelerin anlamca doğru biçimde birleştirilmiş hâli aşağıdakilerden hangisidir?

- A) Özbekistan'da sıfır sayısını kullanan ilk kişi olarak bilinen, cebir ve algoritmanın babası Harizmi, Harezmi Bölgesi'nde doğmuştur.
- B) Özbekistan'ın Harezmi Bölgesi'nde doğan, cebir ve algoritmanın babası Harizmi sıfır sayısını kullanan ilk kişidir.
- C) Sıfır sayısını ilk kullanan kişi olan cebir ve algoritmanın babası Harizmi, Özbekistan'ın Harezmi Bölgesi'nde yaşamıştır.
- D) Özbekistan'ın Harezmi Bölgesi'nde doğan Harizmi, sıfır sayısını kullanan ilk kişi olduğu için cebir ve algoritmanın babası kabul edilir.

- 14.** Bilim, teknik, sanat ve felsefe alanlarında binlerce kelimeye ihtiyacımız var. Bunların Türkçe köklerden türetilmesi elbette iyi olur. Bunu yapacak olanlar desteklenmelidir. Türkçede bulunmayan bir kavrama Türkçe karşılık bularak onu Türk kültürüne mal etmek, övülmeye değer bir hizmettir.

Bu parçadaki altı çizili ifade ile kastedilen aşağıdakilerden hangisidir?

- A) Türkçeye yerleşmiş yabancı kelimeler
- B) Türkçeye kazandırılacak yeni kelimeler
- C) Türkçedeki tüm yabancı kelimeler
- D) Türkçedeki eş anlamlı kelimeler

6. Tema

15. Büyük fedakârlıklar yaparak geleceğimizi daha iyi şekillendirmek için azimle çalışırız. Bu durum bazen bizleri yorar, bıktırır ama “- - - -” sözü aklıma gelince daha bir gayrete gelirim.

Bu metinde boş bırakılan yere aşağıdakilerden hangisi getirilmelidir?

- A) Gökkuşağını görmek için yağmura katlanmak gerekir.
- B) Bir mum diğer mumu tutuşturmakla ışığından bir şey kaybetmez.
- C) Gerçek dostlar yıldızlar gibidir, karanlık çökünce ortaya çıkarlar.
- D) Sağlıktan büyük zenginlik yoktur.

16. • İlk harfi T değildir.
• İlk iki harfinden biri A'dır.
• K, ikinci sırada değildir.

Buna tarife,

- I. KATI
- II. AKIT
- III. ATKI
- IV. TAKI
- V. KITA

sözcüklerinden hangileri uygundur?

- A) I ve III. C) II ve III. B) II ve IV. C) III ve V.

17. **Aşağıdaki parçalardan hangisi “Hava tamamen kapalıysa yönümüzü nasıl bulacağız?” sorusunun yanıtı olabilir?**

- A) Güneş, doğuşundan batışına dek gökyüzünün güneyinde bir yay çizer. Öğle vaktinde tam güneydedir. Güneş'in doğrultusunu, o anda güneybatıyı gösteren bir pusula olarak kullanabilirsiniz ya da yere bir çubuk dikerseniz çubuğun gölgesi tam zıt yöne yani kuzeydoğuya düşer.
- B) Nemli ve serin ortamı seven yosunlar, güneş ışınlarının yansıdığı bir ağacın güney tarafını değil kuzey tarafını tercih eder. Bu nedenle yosunları, kuzeyi gösteren pusulalar olarak kullanabilirsiniz.
- C) Geceleyin yön bulmak çok kolaydır. Neden mi? Çünkü geceleri gökyüzünde kuzeyi gösteren Kutup Yıldızı görünür. Onu bulmak için Büyükayı takımyıldızını arayın. Bir kepçeye benzeyen biçimiyle bu takımyıldızını bulmanız hiç zor olmayacaktır.
- D) Ay'ın hilal şekline sahip olduğu zamanlarda hilalin iki ucuna temas eden hayalî bir çizgi çekin. Çizgiyi çektiğinizde oluşan görüntü “b” harfini andırıyorsa hilalin uçları doğuyu, “d” harfini andırıyorsa batıyı gösteriyordur.

18.



Bu medya metinlerinin yazılış amacı aşağıdakilerden hangisidir?

- A) Bilgi verme
- B) Eğlendirme
- C) İkna etme
- D) Olay yorumlama

19. - - - - Ancak hiçbir şeyden emin olmadığın zaman arayış içinde olursun. Yeni ipuçları, daha önce fark etmediğin detaylar ya da farklı bir duygu hâli yaşarsın. Yaptığından yüzde yüz emin olan birinin böyle ihtiyaçları yoktur ki! Bütünüyle kuşku da olmak en iyisi.

Bu parçada boş bırakılan yere düşüncenin akışına göre aşağıdakilerden hangisi getirilmelidir?

- A) Sanatta ne aradığınız kadar nasıl aradığınız da değerlidir.
- B) Kendine aşırı güven, yaratıcılığın önündeki bir tuzaktır.
- C) Yaptığınız işten eminseniz bir arayış içinde olmanıza gerek yoktur.
- D) Yaratıcılık -en azından işe başlarken- belli bir öz güven gerektirir.

20. Türkçede kelimeler yapı bakımından üç gruba ayrılır: basit, türemiş, birleşik. Hiçbir yapım eki almamış, kök durumundaki kelimeler yapı bakımından basittir. Basit kelimeler çekim eki alabilir. İsim ya da fiil köklerine yapım ekleri getirilerek türetilen kelimeler türemiş, iki ya da daha çok kelimenin bir araya gelip kaynaşmasıyla oluşan yeni anlamlı kelimeler ise birleşik kelime olarak adlandırılır.

Aşağıdaki cümlelerin hangisinde bu metinde sözü edilen yapı gruplarının tümünün örneği vardır?

- A) Kemalpaşa tatlısına düşünümdür.
- B) Yeni filminin çekimlerine başlamış.
- C) Galiba yağmur biraz daha yağacak.
- D) Elinde bir kedi yavrusuyla çıkageldi.



Cevap anahtarına ulaşmak için karekodu okutunuz.