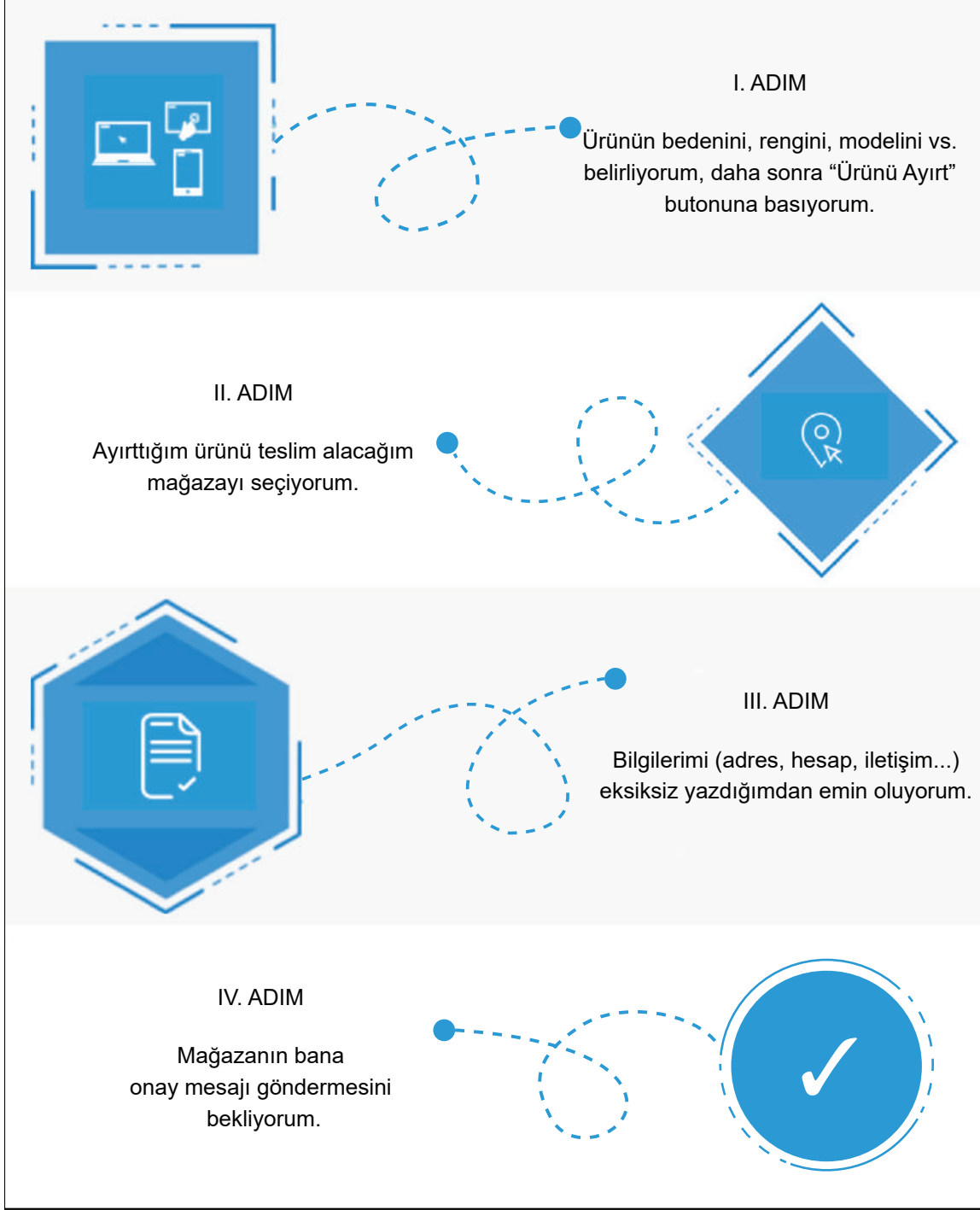




5. Tema

1. Aşağıda bir internet sitesinden ürün almak isteyen müşterilerin izlemesi gereken yollar gösterilmiştir.



Buna göre banka kartının numarasını giren bir kişi bu alışverişin kaçınıcı adımındadır?

- A) I. B) II. C) III. D) IV.


5. Tema

2. • Bir şeyi oluşturan parçaları birleştirerek bütün durumuna getirmek, monte etmek
• Hazırlamak
• Gereken şartları hazırlayıp kendi kendine olmaya bırakmak

“Kurmak” sözcüğü aşağıdaki cümlelerin hangisinde bu anlamlarından herhangi biriyle kullanılmamıştır?

- A) Tarihin en büyük devletlerinden birini kuracaktı.
B) Her zamanki gibi harika bir sofrayı kurdu.
C) Tüm mahallenin turşusunu o kurar.
D) Çadırları gün batmadan kurmuştu.

3.



Aşağıdaki açıklamalardan hangisi görseli verilen tarihî yerlerden herhangi biriyle ilgili değildir?

- A) Atina'nın 90 km güneybatısında bulunan arkeolojik alan, Miken Uygarlığı'nın en önemli merkezidir. Aslan işlemeli kapısı, “hafifletme üçgeni” formu ile taş duvarın ağırlığını taşır. Kireç taşı kabartmanın üzerindeki motiflerde aslanların baş kısmı için altın kullanılmış olsa da bu kısımlar günümüze kadar ulaşmamıştır.
- B) Angkor'da bulunan ve 12. yüzyılın sonu ile 13. yüzyılın başı arasında inşa edilen Ta Prohm'un kalıntıları arasında çoğunlukla kapok ağacı ve thitpok ağacı yetişiyor. Tapınak, çevresini saran orman ile oluşturduğu görsel zenginlikle günümüzde pek çok ziyaretçiyi kendisine çekiyor.
- C) Petra, MÖ 400-MS 106 yılları arasında Nebatilere başkentlik yapmıştır. Bir kısmı inşa edilmiş, bir kısmı ise kayaya oyulmuş olan şehir, mimarisi ve su iletim sistemi ile meşhurdur. Kızıl kum taşı peyzajı, zaman içinde rüzgâr ve yağış nedeniyle erozyona uğramıştır.
- D) Quintana Roo'da bulunan antik kent, Mayaların taş geçitlerinden oluşan büyük ağın bağlantı noktasıydı. MS 600 ile MS 900 yılları arasında kültürel ve siyasi anlamda büyük öneme sahipti. Tasarımı ve yerleşim planı ile diğer Maya kentlerinden farklı olan şehirde yer alan beyaz yollar ana piramide ulaşır.

5. Tema

4. Dizelerde kullanılan hayalî unsurlara “düşsel öge” denir.

Buna göre aşağıdaki dizelerin hangisinde düşsel öğelere yer verilmemiştir?

- A) Martılar konuyor omuzlarıma
Gözlerin İstanbul oluyor birden
- B) Karlı dağlar ardından titrek bir ay gülünce
Çoruh zincir içinde bir esir gibi ağlar
- C) Bir çakıl taşı ısınır içimde
Bir kuş gelir, yüreğimin ucuna konar
- D) Şükrederek kalktığım sofralarımda
Ya soğan ekmek olur yahut bulamaç

5. Tema

- 5.
- Mariana Çukuru okyanus tabanında 2500 km uzanan, yaklaşık 70 km genişliğinde bir hendektir. Okyanusların en derin noktası olan Challenger Deep (-10.994 m) bu hendekte yer alır.
 - Mısır'daki piramitler kimin adına yapıldıysa onun bulunduğu odaya, doğduğu ve tahta çıktığı günler olmak üzere yılda iki defa güneş vurmaktadır.
 - Gereksinimleriniz karşılanmadığında neler yaşıyorsunuz? Boğazınızın yanıp gıdıklandığı, karnınızın hafiften ağrıdığı ya da çok sinirlendiğiniz için kaşlarınızın çatıldığı olmuştur değil mi?

Aşağıdakilerden hangisi bu içeriklerden herhangi biriyle ilişkilendirilemez?

A)




Çeşit Çeşit
Duygu

B)




Laboratuvarda
Buluşalım

C)



Biliyor
muydunuz?

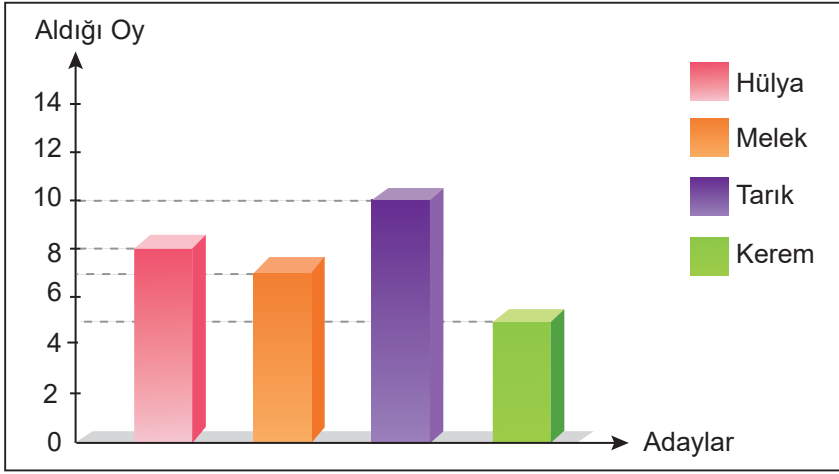
D)



Dünyayı Keşfe
Var mısınız?

5. Tema

6. 5-A sınıfının sene başında yapılan sınıf başkanlığı seçim sonuçlarının grafikte gösterimi aşağıda verilmiştir.



Buna göre aday öğrencilerin aldığı oyların sonuçları aşağıdakilerin hangisinde doğru verilmiştir?

A)

Aday	Aldığı Oy
Hülya	8
Melek	7
Tarık	10
Kerem	5

B)

Aday	Aldığı Oy
Hülya	5
Melek	10
Tarık	7
Kerem	8

C)

Aday	Aldığı Oy
Hülya	10
Melek	7
Tarık	8
Kerem	5

D)

Aday	Aldığı Oy
Hülya	8
Melek	10
Tarık	5
Kerem	7

7. I. Araştırmacılar, arıların bu sayede daha önceden ziyaret edilmemiş çiçekleri saptayarak daha iyi beslenebildiği sonucuna ulaşmışlardır.
II. Bu madde, ayaklarını değdirdikleri her yerde kokulu bir iz bırakmalarını sağlar.
III. Bombus arıları kokunun sahibinin kendi kovanından mı yoksa başka bir kovandan mı olduğunu da ayırt edebilir.
IV. Bu izlerin diğer bombus arıları tarafından algılanabildiği gözlemlenmiştir.
V. Bombus arıları ayaklarından kokulu bir madde salgılar.

Numaralanmış cümlelerle anlamlı bir paragraf oluşturulmak istendiğinde sıralama aşağıdakilerden hangisi olur?

- A) III - I - V - IV - II
B) III - II - IV - V - I
C) V - I - III - II - IV
D) V - II - IV - III - I

5. Tema

8. Piktogramlarla günlük yaşamımızda sıkça karşılaşırız. Örneğin engelliler için ayrılmış park yeri, geri dönüştürülebilir malzeme, akaryakıt istasyonu piktogramları pek çok yerde karşımıza çıkar.

Buna göre aşağıdakilerden hangisi sözü edilen piktogram örneklerinden değildir?

A)



B)



C)



D)



9. Kastamonu %70'e varan ormanlık alanları, uzun sahilleri, Küre ve Ilgaz Millî Parkları, kanyonları, mağaraları ve Ilıca Şelalesi gibi birçok doğa harikasıyla değerli bir şehir. Burası misafirperver insanları, yedi bin yıllık tarihi ve sekiz yüz elli çeşidin üzerinde yerel lezzetiyle hayatınıza renk katacak.

Bu metinden Kastamonu'yla ilgili aşağıdakilerin hangisine ulaşamaz?

- A) Yöre halkının, konukları ağırlamaktan memnuniyet duyduğuna
- B) Orman bakımından ülkemizin en zengin şehri olduğuna
- C) Geçmişinin çok eskiye dayandığına
- D) Denize kıyısı bulunduğuna

5. Tema

10. Pencerenin önündeki çiçekler açmış. Onların bakımı için yarım saat ayıracağım bugün, kahvaltıya da bir o kadar. Okumaya başladığım roman için en az iki saat... Bitirdiğim kitabı yeniden düşünmek için de yirmi dakika... Küçük bir yürüyüş, gidiş dönüş bir saati bulur. Çayı ocağa koyup bir de film izlerim belki sonra, o da en az iki saat sürer. Karşı bahçe- de güneşe kanıp çiçek açmış bir ağaç var, seyredilecek bir süre.

Bu sözleri söyleyen bir yazar için aşağıdakilerden hangisi söylenebilir?

- A) Üşengeç bir kişiliğe sahiptir.
- B) Etrafında olup bitenlere karşı duyarsızdır.
- C) Zamanının kıymetini bilmektedir.
- D) Güne erken başlayan biridir.

11. Aşağıdaki cümlelerin hangisinde kişisel düşünceye yer verilmiştir?

- A) İletişim araçlarının davranışlar üzerindeki etkisi uzun süredir araştırılıyor.
- B) Genç yazar, son kitabında şehir hayatında karşılaşılan zorlukları anlatmış.
- C) Kıyafetin kullanışlı olması değil, rengi önemlidir.
- D) Filmde, çekimlerin yapıldığı kasabada yaşayan kişilere rol verilmiş.

5. Tema

12. Araştırmacılar yıllardır beynin yapısını ve özelliklerini anlamaya yönelik çalışmalar yapıyor. Her çalışma, beynimizle ilgili bilmediğimiz yeni bir şey ortaya çıkarıyor. Bir grup araştırmacı, insan beyninin daha önce bilinmeyen bir bölgesini buldu. Keşfedilen bu bölge, beyin ile omuriliğin birleştiği noktada yer alıyor. Bölgenin spor yapmak, müzik aleti çalmak ve denge durmak gibi motor becerilerin kontrol edilmesiyle ilgili olduğu tahmin ediliyor.

Bu açıklamaya göre aşağıdaki durumların hangisinde beynin bu bölgesinin kullanıldığı söylenemez?

- A) Ünlü bilim insanı Andrew Barton'un, denizlerdeki ekolojik dengenin bozulmasıyla ilgili makalesi tüm dünyada ses getirdi.
- B) On beş yaşındaki Sümeyye Boyacı, İrlanda'daki Paralimpik Yüzme Şampiyonası'nda 50 metre sırtüstünde iki altın madalya ile Türkiye'ye döndü.
- C) Dünyanın en büyük yeteneklerinden biri olan İdil Biret, piyanist olarak dünyaya kendini kabul ettirmiştir.
- D) Nathan Paulin, yakın arkadaşı ile kurduğu ip hattının üzerinde bir kilometre boyunca cesurca yürüyerek dünya rekoru kırdı.
13. Dünyanın en büyük teknoloji festivali olan TEKNOFEST'in (Havacılık, Uzay ve Teknoloji Festivali) ikincisi İstanbul Atatürk Havalimanı'nda 1 milyon 720 bin kişinin katılımıyla gerçekleştirildi. Festivalde Türk yıldızları, atak helikopterleri, paraşüt timleri, insansız hava araçları ve akrobasi uçakları heyecan verici gösteriler sergiledi.

Aşağıdakilerden hangisi bu parçadan kesin olarak çıkarılır?

- A) İlk TEKNOFEST Atatürk Havalimanı'nda gerçekleştirilmiştir.
- B) Yapılan her iki festivale de halkın ilgisi büyüktür.
- C) Festivalde farklı araçlarla düzenlenen etkinlikler yer almıştır.
- D) TEKNOFEST, Türkiye dışındaki ülkelerde de yapılmıştır.
14. Dayanışma; topluluğu oluşturan bireylerin bir konuda iş birliği içinde olmalarıdır. Dayanışma sayesinde insanlar daha çabuk ve daha çok iş yapabilir. Çünkü yaşamak, zorlukları yenmek ve başarılı olabilmek için insanların birbirlerine ihtiyaçları vardır. Atalarımız bu konuda "- - -" diyerek birlik, beraberlik ve dayanışmanın önemini vurgulamışlardır.



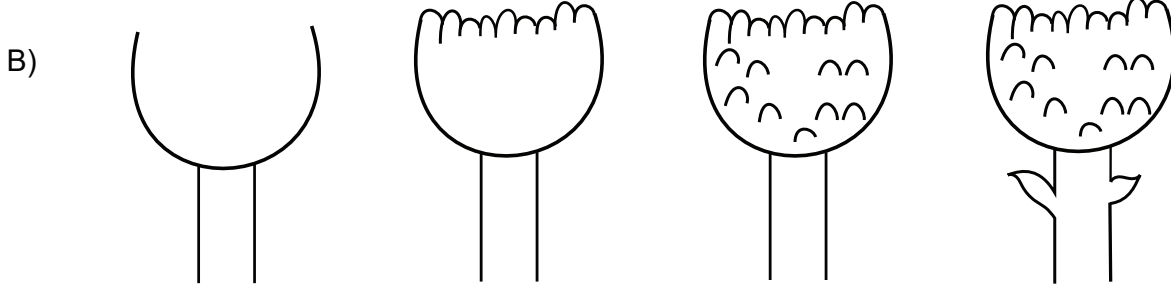

Bu parçada boş bırakılan yere aşağıdakilerden hangisi getirilebilir?

- A) İşleyen demir ışıldar.
- B) Yuvarlanan taş yosun tutmaz.
- C) Tırnağın varsa başını kaşı.
- D) El, eli yıkar; el de yüzü.

15. Aşağıda ağaç çiziminin aşamaları verilmiştir.

- Ağacın gövdesini oluşturmak için dikey iki çizgi çizip üzerine ters "u" harfi yapınız.
- Tepe kısmını gövdeye bağlamak için ters "m" harfine benzeyen şekiller çiziniz.
- Yaprak oluşturmak için tepe kısmına yine ters "u" harfine benzeyen şekiller çiziniz.
- Gövdenin her iki yanına yaprak çiziniz.

Bu aşamalar aşağıdakilerin hangisinde doğru gösterilmiştir?



16. Rüzgâr, Güneş'e der ki:

– Ben senden daha güçlüyüm. Bak, bu ihtiyarın ceketini sırtından fırlatıvereceğim.

Rüzgâr esmeye başlar, fırtınaya dönüşür ama ihtiyar, ceketine daha çok sarılır.

Güneş “Beceremedin!” der.

– Ben daha güçlüyüm. İhtiyara şimdi ceketini çıkarttıracağım.

Saklandığı bulutun arkasından çıkan Güneş, bir gülümsemeyle ortalığı ısıtır. İhtiyar, ceketini çıkarır ve yürür. Güneş, rüzgâra döner:

– Nezaket ve dostluk, sertlikten daha etkilidir.

Bu parçada vurgulanmak istenen düşünceyi en iyi ifade eden atasözü aşağıdakilerden hangisidir?

A) Dağ başından duman eksik olmaz.

B) Tatlı dil, yılanı deliğinden çıkarır.

C) Rüzgâr eken, fırtına biçer.

D) Güneş, balçıkla sıvanmaz.

17.



Bu görsel,

I. Cisimleri gördüğüm gibi değil, düşündüğüm gibi boyarım.

II. Sanat gereksiz ayrıntıların ayıklanmasıdır.

III. Baktığınız yerde, olanı değil; görmek istediğinizi görürsünüz.

cümlelerinden hangileriyle ilişkilendirilebilir?

A) Yalnız I.

B) Yalnız II.

C) I ve III.

D) II ve III.

5. Tema

18. • Korkma! Sönmez bu şafaklarda yüzen al sancak / Sönmeden yurdumun üstünde tüten en son ocak
• Sınav sonuçları 17.00'de <http://meb.gov.tr> adresinde açıklanacaktır.
• Varlık ve kavramları çoğul yapmak için -lar /-ler çokluk eki kullanılır.

Bu cümlelerde eğik çizginin (/) aşağıda verilen işlevlerinden hangisinin örneği yoktur?

- A) Genel ağ adreslerinde kullanılır.
B) Dizeler yan yana yazıldığında aralarına konur.
C) Dil bilgisinde eklerin farklı biçimlerini göstermek için kullanılır.
D) Tarihlerin yazılışında gün, ay ve yılı gösteren sayıları birbirinden ayırmak için konur.

19. Günümüzde basılı yayınlarda, genellikle CMYK (cyan, magenta, yellow, key) denen dört renk kalıbından oluşan sistem temel alınır. İngilizce "cyan" sözcüğü Türkçede "camgöbeği/mavi" anlamına gelir. "Magenta" kırmızının bir tonunu belirtir. Yellow sarı demektir ve "key" anahtar anlamına gelir. Key diğer renk kalıplarının hizalandığı ve baskıya son hâlini veren kalıp olduğu için böyle adlandırılmıştır. Genellikle "black" yani "siyah" anlamında kullanılır.

Bu metne göre aşağıdaki görsellerden hangisi bir fotoğrafın anahtar görüntüsünü vermektedir?



5. Tema

20. Türk gölge oyunu ve farklı kültürlere ait gölge ve kukla sanatlarını tanıtmak, uluslararası paylaşım sağlamak ve ülkeler arasındaki dostluğu geliştirmek için düzenlenen Uluslararası Bursa Karagöz ve Gölge Oyunları Festivali'nin 18'incisi 18-23 Kasım tarihleri arasında gerçekleştirilecektir. Festivalde söyleşiler ve sergiler de var. UNESCO tarafından Dünya Somut Olmayan Kültürel Miras Listesi'ne dâhil edilen Karagöz, Bursa'da meraklılarını bekliyor.

Bu parçada söz konusu festivalle ilgili aşağıdakilerden hangisine değinilmemiştir?

- A) Kaçınıncısının yapıldığına
- B) Kimlerin katılabileceğine
- C) Amacının ne olduğuna
- D) Nerede düzenlendiğine

21. Ayla, Beril, Ceren, Duygu ve Ece'nin bisikletleri yan yana durmaktadır. Bisikletlerin yerleriyle ilgili şunlar bilinmektedir:

- Ayla'nın bisikleti Beril'in bisikletinin solunda, Ceren'in bisikletinin sağındadır.
- Duygu'nun bisikleti Ece'nin bisikletinin solunda, Beril'in bisikletinin sağındadır.



Buna göre bisikletlerin sıralaması aşağıdakilerden hangisidir?

- A) Beril, Ceren, Ayla, Ece, Duygu
- B) Ceren, Ayla, Beril, Duygu, Ece
- C) Beril, Ceren, Duygu, Ece, Ayla
- D) Ceren, Beril, Ece, Duygu, Ayla



Cevap anahtarına ulaşmak için karekodu okutunuz.